

АНДИЖОН ҚИШЛОҚ ХЎЖАЛИК ИНСТИТУТИ  
ИҚТИСОДИЁТ ВА БОШҚАРУВ ФАКУЛЬТЕТИ

ҚИШЛОҚ ХЎЖАЛИК ИҚТИСОДИЁТИ ВА БОШҚАРУВ



«АСДИҚЛАЙМАН»  
бўйича проректор  
Б.Қ.Тўхтамишев  
2015 й.



5230100- Иқтисодиёт (қишлоқ хўжалиги)ва Касб таълими (Иқтисод)  
таълим йўналишларининг талабалари учун «Жаҳон иқтисодиёти ва халқаро  
иқтисодий муносабатлар» фанидан амалий машғулотларни ўтказиш учун

УСЛУБИЙ КЎРСАТМАЛАР

Таълим йўналиши	Босқич, семестр	Умумий соат	Ўқув соати	Маъ рўза	Амалий маш- ғулот	Мустақил таълим
5230100-Иқтисодиёт 511017– Касб таълими	3 босқич, 5семестр	90	90	54	36	72

Андижон - 2015

Услужий кўрсатмалар таълим йўналишларининг ишчи ўқув режасида кўрсатилган ўқув юкларига мос холда фаннинг ўқув ва ишчи ўқув дастурлари асосида тайёрланди.

Тузувчи: и.ф.н., кат.ўқтЗ.А. Исраилов  
асистент А.Абдумўминов

Такризчилар: и.ф.н. доцент М. Ҳожибоев  
и.ф.н. доцент О. Махмудов

Услужий кўрсатмалар иктисодиёт ва бошқарув факультети услубий кенгашининг 2015 йил 25 августидаги 1-сонли йиғилишида кўриб чиқилиб, тасдиқланди.

Факультет услубий кенгаши раиси: О.Х. Махмудов.

Услужий кўрсатмалар институт ўқув-услужий кенгашининг 2015 йил 26 августидаги 1-сонли йиғилишида кўриб чиқилиб, тасдиқланди.

Институт ўқув-услужий кенгаши раиси: Б.Тўхтамишев.

## М У Н Д А Р И Ж А

<b>Мавзулар номи</b>	<b>Бет</b>
Эслатма	4-6
1-амалий машғулот. Жаҳон хўжалиги ва халқаро иқтисодий муносабатлар: асосий кўринишлари ва хусусиятлари. Халқаро меҳнат тақсимоти.	7-9
2-амалий машғулот. Халқаро савдонинг ривожланиш назариялари ва моделлари.	10-12
3-амалий машғулот. Ташқи савдони давлат томонидан тартибга солиш ва бошқариш йўллари.	13-15
4-амалий машғулот. Халқаро ишчи кучи миграцияси.	16-17
5-амалий машғулот. Халқаро капитал миграцияси ва трансмиллий компаниялар.	18-20
6-амалий машғулот. Жаҳон иқтисодиётида эркин иқтисодий ҳудудларнинг туган ўрни.	21-25
7-амалий машғулот. Халқаро валюта-молия ва кредит муносабатлари.	25-31
8-амалий машғулот. Жаҳон хўжалигида ривожланган мамлакатлар иқтисодиёти.	32-36
9-амалий машғулот. Ривожланаётган мамлакатлар – халқаро иқтисодий муносабатлар тизимида.	37-39
10-амалий машғулот. Халқаро иқтисодий интеграция.	40-41
11-амалий машғулот. Жаҳон иқтисодиётини тартибга солишда халқаро ташкилотларнинг роли.	42-44
12-амалий машғулот. Жаҳон хўжалигининг глобаллашув жараёнларида Ўзбекистоннинг иштироки.	45-47
Фойдаланилган адабиётлар рўйхати	48

## ЭСЛАТМА!

**Ушбу услубий кўрсатмада келтирилган амалий машғулотлар ўтилган маъруза дарслари ва фанга тегишли ўқув адабиётлари асосида тайёрланган бўлиб, ҳар бир талаба уларни қуйидаги тартибда ишлайди:**

Жаҳон иқтисодиёти фани иқтисодий йўналишлар бўйича мутахассиси тайёрлашда асосий умумқасбий фанлардан бири бўлиб ҳисобланади. Ушбу фанга талабаларда бўлган қизиқиш жаҳон иқтисодиёти ва халқаро иқтисодий муносабатлар соҳасида юз бераётган улкан ўзгаришлар билан боғлиқ. Жаҳон иқтисодиёти ва халқаро иқтисодий муносабатларни ўрганиш талабаларда иқтисодий воқеа ва ҳодисалар, жараёнларнинг мазмун моҳиятини тушуниб етиш, иқтисодий қонунларни амал қилишини англашга кўмаклашади. Шунингдек, жаҳон иқтисодиёти ва халқаро иқтисодий муносабатларнинг замонавий тенденцияларини тўғри тушуниб етишга имкон беради.

Фаннинг мақсади талабаларда жаҳон иқтисодиёти ва халқаро иқтисодий муносабатлар ҳақида базавий назарий тушунчаларни ҳосил қилиш, жаҳон хўжалигининг ривожланиш қонунлари ва қонуниятларини тушунишни ўргатиш, унда юз бераётган иқтисодий жараёнлар ва воқеаларни таҳлил қилиш усуллари билан тушунтириш бўлиб ҳисобланади.

Фаннинг вазифалари:

-талабаларга жаҳон иқтисодиёти ва халқаро иқтисодий муносабатларнинг таркибий тузилиши ва шакллари тушунишга кўмаклашиш;

-жаҳон иқтисодиёти ва халқаро иқтисодий муносабатлар фанида амал қиладиган асосий тушунчалар, категорияларни, амал қилиш механизмнинг мазмунини очиб бериш;

-жаҳон бозорини амал қилиш қонунини тушунтириш;

дунё мамлакатларининг жаҳон иқтисодиётида тутган ўрнини кўрсатиб бериш;

-ташқи савдо сиёсатининг моделларини, халқаро савдони молиялаштириш усулларини, эркин савдо ва протекционизм сиёсатининг моҳиятини очиб бериш ва тушунтириш;

-халқаро капитал ҳаракатининг фаоллашув сабабларини очиб бериш, унинг асосий ҳаракатланиш шакллари кўрсатиб бериш;

-дунё валюта тизимининг асосини ташкил этувчи унсурларни кўрсатиб бериш ва мазмунини тушунтириш, валюта тизимларининг эволюцион тараққиётини изоҳлаб бериш;

-халқаро валютакредит муносабатларини бошқаришнинг асосий йўналишларини кўриб чиқиш;

-халқаро ишчи кучи миграциясининг сабабларини очиб бериш ва унинг ривожланиш босқичлари, муаммоларини ўрганиш;

-халқаро минтақавий иқтисодий интеграциянинг келиб чиқиш сабаблари, ривожланиш босқичлари, бугунги кундаги моделлари ва иқтисодий самарадорлик муаммоларини тушунтириш;

-дунё мамлакатларининг иқтисодиётини гуруҳлар кесимида ўрганиш ва уларнинг иқтисодий тараққиёт муаммоларини таҳлил қилиш ва баҳо бериш.

Жаҳон иқтисодиёти ва халқаро иқтисодий муносабатлар фанини ўрганишда талаба қуйидагиларни билиши ва бажара олиш кўникмасига эга бўлиши шарт:

-назарий билимларни ўзлаштириш асосида статистик маълумотларни таҳлил қилиш ва хулоса қилиш;

-топшириқларни ечиш учун назарий билимлар асосида ўзининг таклиф ва хулосаларини ишлаб чиқиш ҳамда уларни илмий жиҳатдан асослаб бериш;

-хорижий давлатлар тажрибасини чуқур ўрганиш асосида қиёсий маълумотларга эга бўлиш ва уларни фанга оид тестларни ечиш, масалаларни ишлаш қобилиятига эга бўлиш, реферат ва докладлар тайёрлаш.

Услубий қўлланма қуйидаги таркибда тузилган:

- 1) Таянч атамага шарҳ ёзинг;
- 2) Тўғри жавобни танланг;
- 3) Машқлар;
- 4) Мушоҳада қилиш учун саволлар;
- 5) Статистик маълумотлар билан ишлаш учун масалалар;
- 6) Топшириқлар;
- 7) Дастурий таъминот:

7.1-Тестлар;

7.2-Графиклар ва диаграммалар.

**1.** Мавзуга оид “таянч атама” номини топиш, саволларга “тўғри” ёки “нотўғри” жавобларни аниқлаш, мушоҳада қилиш учун саволларга жавоб топиш, статистик жадваллар билан ишлаш учун топшириқларни бажариш, график ва масалаларни ечиш семинар дарсларда бажарилади. Айрим ҳолатларда бўш қолдирилган қаторга иборалар жавобни ёзса, қолган ҳолатларда тўғри жавобни тагига чизилади. График ва статистик маълумотлар билан топшириқларда жавоб мантиқан шакллантирилгач, оғзаки тарзда ифода қилини керак. Тестлар махсус дастурга киритилган бўлиб, уларга вақт етса дарсни ўзида, етмай қолган уйда мустақил ечилиши мумкин. Эконометрик моделлар эса биттаси дасрда ўқитувчи томонидан ишлаб кўрсатилади, қолганлари талаба томонидан уйда мустақил ишланаверади.

**2.** Формулалар ва жадваллар берилган амалий машғулотларда ишланади. Жадвалларга берилган жавоблар талабанинг рейтингини аниқлашда эътиборга олинади, формулаларни ечиш эса асосан талаба билимини мустақамлашга қаратилган бўлиб, рейтингга киритилади. Лекин унга ажратиладиган бал ҳажми минимал миқдорда бўлади ва у талабага мажбурий топшириқ ҳисобланмайди.

3. Берилган тестларни ишлаб, жавобларни ўқитувчи электрон нусхада сақлаб қўяди. Натижаларни умумлаштириб рўйхат тузади ва ҳар бир талабнинг тўплаган бали ёзиб борилади.

Юқоридаги текширишлар натижаларига биноан ўқитувчи ҳамма жавобларни текшириш жадвалида жамлаб, уни 100 балли тизим асосида ҳисоблайди ва ҳар битта амалий машғулот бўйича талабанинг рейтингини аниқлайди.

Шуни эсда тутиш лозимки, берилаётган жавоблар бўялмаслиги ва ёзувлар аниқ бўлишлиги, ўқитувчи томонидан белгиланган вақт ичида амалий машғулотни ишланиши талаб қилинади. Шунингдек, ўқитувчи томонидан берилаётган маълумотларни уйда қайта ишлаш ва такрорлаш орқали мустақамлаш, кенгайтириш зарур.

Машғулотлар мавзулари ва соатлар тақсими					
т/р	Мавзулар номи	Жами соат	Маъруза	Амалий машғулот	Мустақил Таълим
1	Жаҳон хўжалиги ва халқаро иқтисодий муносабатлар: асосий кўринишлари ва хусусиятлари. Халқаро меҳнат тақсими.	6	4	2	4
2	Халқаро савдонинг ривожланиш назариялари ва моделлари.	8	4	4	4
3	Ташқи савдони давлат томонидан тартибга солиш ва бошқариш йўллари.	8	4	4	6
4	Халқаро ишчи кучи миграцияси.	4	2	2	4
5	Халқаро капитал миграцияси ва трансмиллий компаниялар.	8	4	4	6
6	Жаҳон иқтисодиётида эркин иқтисодий ҳудудларнинг туган ўрни.	6	4	2	6
7	Халқаро валюта-молия ва кредит муносабатлари.	8	4	4	8
8	Жаҳон хўжалигида ривожланган мамлакатлар иқтисодиёти.	12	8	4	8
9	Ривожланаётган мамлакатлар – халқаро иқтисодий муносабатлар тизимида.	12	8	4	8
10	Халқаро иқтисодий интеграция.	6	4	2	8
11	Жаҳон иқтисодиётини тартибга солишда халқаро ташкилотларнинг роли.	6	4	2	6
12	Жаҳон хўжалигининг глобаллашув жараёнларида Ўзбекистоннинг иштироки.	4	4	2	4
Жами		90	54	36	72

# **1-Мавзу: Жаҳон хўжалиги ва халқаро иқтисодий муносабатлар: асосий кўринишлари ва хусусиятлари. Халқаро меҳнат тақсимооти.**

## **1) Таянч атаманинг номини топинг:**

1.1. Дунё мамлакатлари иқтисодиётининг йиғиндиси: \_\_\_\_\_

1.2. Жаҳон иқтисодиётига халқаро савдо ва капитал миграцияси орқали интеграциялашган иқтисодиёт: \_\_\_\_\_

1.3. Дунё мамлакатларининг доимий равишда такрорланиб турадиган ва маълум қонуниятларга бўйсунадиган ташқи алоқалари: \_\_\_\_\_

1.4. Дунё малакатларининг товар ишлаб чиқариш ва жаҳон бозорида сотиш бўйича ихтисослашуви: \_\_\_\_\_

1.5. Ишлаб чиқариш ресурслари миграцияси: \_\_\_\_\_

## **2) Тўғри ёки нотўғри:**

2.1. Жаҳон иқтисодиёти ЯИМ 2014 йидаги ҳажми 67 трлн \$: \_\_\_\_\_

2.2. Дунё мамлакатлари учта гуруҳга бўлиб таснифланади : \_\_\_\_\_

2.3. Ривожланаётган давлатлар 4 гуруҳга бўлинади: \_\_\_\_\_

2.4. Миллий хўжаликлар, ТМКлар ва халқаро молиявий –иқтисодий ташкилотлар жаҳон хўжалигининг субъектлари: \_\_\_\_\_

## **3. Халқаро таққослашлар учун ишлатиладиган қуйидаги кўрсаткичларга оид саволларга жавоб топинг:**

1. Сизга маълум бўлган дунё мамлакатларини таснифлаш усулларини санаб беринг.
2. Қуйидаги атамаларга таъриф беринг: ЯИМ, ЯММ, ЯМД.
3. Мамлакатнинг иқтисодий тараққиёт даражаси, унинг номинал ва харид қуввати нисбати бўйича ҳисобланган ЯИМ ўртасида фарқи мавжуд бўладими ?
4. Мамлакатларни ривожланган, ривожланаётган ва ўтиш даври иқтисодиётига эга мамлакатларга бўлишнинг асосий мезонларини тушунтиринг.
5. Ривожланаётган давлатларнинг гуруҳларга бўлинишини тушунтиринг ва ОПЕК ташкилотига кимлар киришини айтинг ?
6. Иқтисодиётнинг миқёсини тавсифловчи қандай сифат кўрсаткичлари мавжуд ?
7. Миллий иқтисодиётнинг очиклиги қандай аниқланишини тушунтиринг ?

## **4) Мушоҳада қилиш учун саволлар: Халқаро иқтисодий муносабатларда:**

4.1. Дунё мамлакатлари иқтисодиётининг ўзаро боғлиқлиги нима:

\_\_\_\_\_

4.2. Товарлар ва хизматлар ҳамда капитал ҳаракатини дунё мамлакатлари мисолида таҳлил қилинишининг сабаби нима: \_\_\_\_\_

\_\_\_\_\_

4.3. Қандай қилиб мамлакатнинг халқаро меҳнат тақсимоотидаги иштирокидан оладиган фойдасини кўпайтириш йўллари топиш мумкин: \_\_\_\_\_

\_\_\_\_\_

4.4. Мамлакат иқтисодиётида ва ташқи иқтисодий алоқаларида вужудга келадиган зиддиятли вазиятлар ва муаммоларнинг сабаблари қандай аниқланади: \_\_\_\_\_

4.5. Вужудга келадиган мураккаб ва зиддиятли вазиятлар ҳамда муаммоларга қандай қилиб ечим топиш мумкин: \_\_\_\_\_

**5) Статистик маълумотлар билан ишлаш учун масала:**

Қуйидаги даромад категориясига (01.07.2013 й) асосланиб жадвалда кўрсатилган давлатларни иқтисодий таснифланг.

Паст даромадга эга давлатлар		1,035 \$ ва ундан паст			
Ўртача даражадан паст даромадга эга давлатлар		1 036 – 4 085\$			
Ўртача даромадга эга давлатлар		4086 \$ дан 12,615 \$ гача			
Юқори даражада даромадга эга давлатлар		12,616 \$ ва ундан юқори			
<b>Давлатлар</b>					
Монако	183,150	Швеция	50,110	Кения	790
Лихтенштейн	137,070	Нидерландия	49,050	Бенин	780
Норвегия	84,290	Сан-Марино	50,400	Камбоджа	750
Люксембург	77,160	Финляндия	47,720	Комор ороллари	750
Швейцария	71,530	АҚШ	47,390	Бангладеш	700
Дания	59,050	Австрия	47,060	Гаити	670
Литва	11,620	Бельгия	45,910	Чад	620
Латвия	11,390	Андорра	41,750	Мали	600
Россия	9,900	Австралия	43,590	Конго	180
Туркия	9,890	Канада	43,270	Бурунди	170
Қозоғистон	7,590	Германия	43,110	Афғонистон	410
Беларусь	5,950	Франция	42,390	Гвинея	400
Озарбойжон	5,330	БАА	41,930	Эфиопия	390
Украина	3,000	Япония	41,850	Нигер	370
Грузия	2,690	Ирландия	41,000	Арманистон	3,200
Ўзбекистон	1,280	Сингапур	40,070	Марокаш	2,850
Қирғизистон	840	Британия	38,370	Туркманистон	3,790
Тожикистон	800	Италия	35,150	Ҳиндистон	1,330
Ж.Корея	19,890	Макао	34,880	Хитой	4,270
Польша	12,440	Гонконг	32,780	Эрон	4,520

**б)Топширик:** қуйидаги жадвални бирон – бир мамлакат мисолида тўлдилинг ва унинг ХИМ тизимидаги иштирокига баҳо беринг.

“ _____ ” давлатининг “ _____ ” йилдаги ижтимоий иқтисодий тараққиёт кўрсаткичлари ва ХИМ тизимидаги иштироки.	
<b>Умумий иқтисодий салоҳияти</b>	
Худуди	
Аҳолиси	
ЯИМ ва дунё ЯИМ даги улуши	
Аҳоли жон бошига ЯИМ	

ЯИМнинг иқтисодиёт соҳалари бўйича таркиби.	
Меҳнат ресурсларининг сони, таркиби, соҳалар кесимида бандлик ва ишсизлик даражаси.	
Табиий ресурслари: таркиби ва миқдори.	
<b>Ташқи савдо алоқалари.</b>	
Халқаро товар алмашувидаги улуши	
Ташқи савдо айланмаси ва сальдоси	
Экспортквотаси ва ҳажми	
Экспортнинг товар таркиби	
Экспортнинг жуғрофий таркиби	
Импорт ҳажми	
Импортнинг товар таркиби	
Импортнинг жуғрофий таркиби	
<b>Капитал экспорти ва импорти</b>	
Капитал экспорти ҳажми:	
Капитал импорти ҳажми	
Капитал экспортининг тармоқ таркиби	
Капитал импортининг тармоқ таркиби	
Капитал экспортининг жуғрофий таркиби	
Капитал импортининг жуғрофий таркиби	
<b>Халқаро ишчи кучи миграцияси</b>	
Эмиграция ва иммиграция ҳажми	
Жуғрофий таркиби	
<b>Валюта тизими</b>	
Миллий валютаси	
Валюта курси режими	
Валютанинг конвертациялашуви	
Ташқи қарзи	
<b>Халқаро ташкилотлар ва интеграцион уюшмалар билан алоқалари</b>	
Халқаро интеграцион бирлашмалардаги иштироки	
Халқаро иқтисодий ташкилотлардаги иштироки	

## 7.Тестлар. Махсус дастурга киритилган тестларни ечинг.

## 2 - Мавзу: Халқаро савдонинг ривожланиш назариялари ва моделлари

### 1. Таянч атаманинг номини топинг:

- 1.1. Мамлакат четга сотадиган товарлар ва хизматлар қандай аталади: \_\_\_\_\_
- 1.2. Мамлакат четдан сотиб оладиган товарлар ва хизматлар қандай номланади: \_\_\_\_\_
- 1.3. Бир мамлакатнинг бошқа мамлакатларга нисбатан товарлар ва хизматларни арзон нарх билан ишлаб чиқариш имконияти қандай аталади: \_\_\_\_\_
- 1.4. Давлатнинг хар қандай аралашувини инкор этувчи ва товарлар ва хизматларнинг нисбий устунлик тамойили асосида халқаро алмашувини кузда тутувчи жараён бу: \_\_\_\_\_
- 1.5. \_\_\_\_\_ бу шундай ҳолатки, унда мамлакатнинг истъемол қуввати унинг ички ишлаб чиқариш имкониятларидан ортикча бўлади.

### 2. Жавобни ўйланг ва чизикчага “тўғри” ёки “нотўғри” деб ёзинг:

- 2.1. Агарда Бразилияда таннарх товарнинг хар бир тури буйича Аргентинага нисбатан 80% ташкил қилса, Бразилия Аргентинага нисбатан мутлак устунликга эга ҳисобланади: \_\_\_\_\_
- 2.2. Жавобни ўйланг ва чизикчага “туғри” ёки “нотуғри” деб ёзинг: нисбий устунлик дунё мамлакатларидаги товар ишлаб чиқариш буйича муқобил харажатлар уртасидаги фарқни курсатади. \_\_\_\_\_
- 2.3. Халқаро савдода мутлак устунлик тамойилининг негизида ишлаб чиқариш харажатларини бошқа давлатларга нисбатан тенг бараварига кам бўлиш гоёси ётади: \_\_\_\_\_
- 2.4. Ички бозорни химоя қилиш учун кулланиладиган химоя чоралари маҳсулот сифатини оширишга туркини йук қилади ва ресурсларни оптимал таксимлашга тусик бўлади: \_\_\_\_\_
- 2.5. Химоя чоралари мамлакатни импортидан ташқари экспортини ҳам чеклайди: \_\_\_\_\_

### 3. Машқлар:

- 3.1. Жаҳон бозорида айрим товарларга талаб функцияси қуйидаги кўринишга эга:  $D = 180 - 3p$ ; Таклиф функцияси эса қуйидаги кўринишга эга:  $S = 20 + 7p$ ; Жаҳон бозори нархи 12 \$, импорт божи (тариф) эса – 2. Импорт божини киритиш натижасида вужудга келадиган товар йўқотиш қанчага тенг бўлишини топинг:  
А) 10; Б) 20; С) 30; Д) 40.

### 3.2. Қуйидаги компаниялар АҚШ бозорида салқинлатувчи ичимликлар сотиш билан шуғулланадилар:

	Банзай Браверс (Япония)	Типпер Лаури (Британия)	Бигг ред Инк. (Канада)
Ўртача ишлаб чиқариш харажатлари	\$10	\$10	\$10
Ички бозорда ичимлик нархлари	\$10	\$12	\$9
Ичиимликларнинг экспорт нархи	\$11	\$11	\$9
АҚШ бозорида ичимлик нархи	\$12	\$13	\$10

**Аниқланг:** компанияларнинг қайси бири демпинг нарх билан маҳсулот сотади.

**3.3. Кичик очик иктисодиётга эга мамлакат ёнғоқ учун қуйидаги талаб ва таклиф функциясига эга:**

$D = 400 - 10p$ ;  $S = 50 + 5p$ ; Мамлакат ёнғоқни ҳар бир қопини \$ 10 дан импорт қилади.

А) Эркин савдо шароитида талаб ва таклиф мувозанатини аниқланг.

Б) 50 қоп миқдорида квота чекловини киритилгандан кейин юзага келадиган мувозанатни аниқланг.

**4. Масалалар:**

**4.1. Мутлақ устунлик тамойили асосида ечинг.**

А мамлакат 1 бирлик ресурсдан фойдаланиб 2 т буғдой ёки 1 т кўмир, Б мамлакат эса 1 т буғдой ва 2 т кўмир ишлаб чиқариши мумкин.

А. А мамлакат буғдой сотиб олади ва кўмир сотади.

Б. А мамлакат кўмир сотиб олади ва буғдой сотади.

В. Б мамлакат буғдой сотиб олади, кўмирни эса сотади.

С. Б мамлакат кўмир сотиб олади, буғдойни эса сотади.

**4.2. Нисбий устунлик тамойили асосида ечинг.**

А ва Б мамлакатлар Х ва Э товарларни қуйидаги нисбатда ишлаб чиқарадилар:

	Х товар	Э товар
А мамлакат	12	6
Б мамлакат	8	14

**4.3. Импорт божини киритилишини истъемолчиларга, ишлаб чиқарувчиларга, давлат бюджетига ҳамда аҳоли турмуш фаровонлигига қандай таъсир кўрсатишини ҳисобланг ва изоҳланг.**

Талаб ва таклиф функцияси қуйидагича:

А)  $D=1000 - 20p$ ;  $S = 200 + 20p$ ;  $P_w = 12$ ;  $T=50\%$ .

В)  $D= 2200 - 3p$ ;  $S=3p - 300$ ;  $P_w = 100$ ;  $T=100\%$ .

**5) Мушоҳада қилиш учун саволлар:**

5.1. Импорт мамлакатдаги ялпи талабни купайтиради: \_\_\_\_\_

5.2. Импорт мамлакатдаги товарлар ва хизматлар нархини оширади ва инфляциянинг келиб чиқиш сабабларидан бири ҳисобланади: \_\_\_\_\_

5.3. Россияда аҳоли турмуш даражаси Белорусияга нисбатан купрок халқаро савдога боглик: \_\_\_\_\_

5.4. Халқаро савдонинг мамлакат иктисодиётига энг кучли ижобий таъсири қайси омилда билинади (эҳтиёжни тулик кондирриш, техник прогресс, ракобатбардошлик): \_\_\_\_\_

5.5. Нима учун халқаро савдода сунъий тўсиклар мавжуд ва амал қилади: \_\_\_\_\_

**6) Статистик маълумотлар билан ишлаш учун топширик:** қуйидаги жадвалда келтирилган статистик маълумотлар асосида минтақаларнинг халқаро савдодаги иштирокини баҳоланг.

№	Минтақа	1960	1970	1980	1990	2000	2010
1	Шимолий Америка	5,9	6,8	11,2	10,6	13,2	13,6
2	Шарқий Осиё ва Тинч океани	13,2	14,6	21,3	20,7	25,4	32,7
3	Европа ва Марказий Осиё	19,6	20,4	25,7	26,9	36,3	39,5

4	Европа ва Марказий Осиё (ривожланаётган)				19,7	37,0	30,9
5	Европа Иттифоқи	19,4	20,5	25,5	26,9	35,8	39,6
6	Юқори даромадга эга давлатлар	11,9	14,4	19,8	19,3	24,2	27,7
7	Ўртача даражадан юқори даромад		9,1	14,7	19,3	27,3	28,7
8	Ўртача даромадга эга давлатлар		9,5	15,3	19,1	27,2	28,4
9	Қолоқ давлатлар : БМТ таснифи.	14,6	13,2	12,6	12,3	20,3	21,0
10	Энг қолоқ давлатлар		23,9	23,5	19,8	25,2	28,9
11	Паст ва ўртача даромадга эга давлатлар		9,6	15,3	18,9	26,9	28,2
12	Паст даромадга эга давлатлар	14,9	12,7	13,2	11,8	17,4	19,6
13	Ўртача даражадан паст даромадга эга давлат	11,3	11,0	17,5	18,2	26,9	27,6
14	Яқин Шарқ ва Шимолий Африка.		32,8	42,8	31,8	35,9	
15	Жанубий Осиё	5,8	5,2	7,7	8,7	14,2	20,3
16	Лотин Америкаси ва Кариб хавзаси	11,6	10,8	14,6	17,2	21,3	22,3
17	Лотин Америкаси ва Кариб хавзаси (ривож-т)	10,5	9,9	13,2	17,0	20,0	22,3
18	Сахрои Кабир Африка.	25,5	21,8	31,9	26,3	32,4	29,6

**7) Дастурий таъминот: махсус дастурга киритилган тестларни ечинг.**

### 3 – Мавзу: Ташқи савдони давлат томонидан тартибга солиш ва бошқариш йўллари

#### 1) Таянч атамага шарх ёзинг:

- 1.1. Ташқи савдонинг шарт – шароити: \_\_\_\_\_
- 1.2. Реал экспорт квотаси: \_\_\_\_\_
- 1.3. Тариф эскалацияси: \_\_\_\_\_
- 1.4. Даромад эффекти: \_\_\_\_\_
- 1.5. Ўрнини босиш эффекти: \_\_\_\_\_

#### 2. Жавобни уйланг ва чизикчага “тўғри” ёки “нотўғри” деб ёзинг:

- 2.1. Миллий хўжаликни ҳимоя қилиш мақсадида киритиладиган чоралар ташқи савдо тўсиқларини ўрнатишга аргументлардан бири бўлиб ҳисобланади: \_\_\_\_\_
- 2.2. Мамлакатнинг иқтисодий фаровонлиги эркин савдо шароитида импорт божлари киритилган даврга нисбатан доим паст булади: \_\_\_\_\_
- 2.3. Импорт товарларни қисқартириш нуктаи – назаридан импорт квоталари божларга нисбатан анча самарали бўлиб ҳисобланади: \_\_\_\_\_
- 2.4. Техник прогресснинг дунё миқёсида тез тарқалиш имкониятидан келиб чиқиб айтиш мумкинки, эркин савдо мамлакатлар иқтисодиётида таркибий диспропорциялар, ишсизлик ва тулов баланси муаммоларини келтириб чиқаради: \_\_\_\_\_
- 2.5. 1981-1985 йилларда АКШ япон автомобилларини кунгилли чекловига мажбур қилди. Бу эса япон автомобиллари импортини 10% қисқартирди. Қиска муддатли даврда ушбу чора АКШ иқтисодиётига нархларни узишига олиб келди ва истъеомли чеклади: \_\_\_\_\_.

#### 3) Қуйидаги саволларга изоҳ беринг:

- 3.1. Нима учун афзалликлар кўп бўлишига қарамай очик савдо сиёсатида савдони эркин бошқариш кам қўлланилади ?
- 3.2. Қуйидаги жумлага нисбатан фикр билдиринг: божни ҳисоблашнинг иккита кенг тарқалган шаклига нисбатан махсус бож энг кўп қўлланилади».
- 3.3. Импорт божини киритишнинг қандай оқибатлари мавжуд?
- 3.4. Демпингнинг қандай турларини биласиз ва улар қандай фарқ қилади?
- 3.5. ЖСТга мамлакатни қабул қилиниши миллий иқтисодиётга қандай салбий таъсир кўрсатиши мумкин?

#### 4) Масалалар. Хорижий мамлакат анча катта иқтисодиёт миқёсига эга. У қуйидаги функциялар билан ифодаланади: $D^* = 800 - 200p^*$ ; $S^* = 400 + 200p^*$ ; $P = 30\$$ .

Эркин савдо шароитидаги мувозанатни ҳисобланг ҳамда 30 % импорт божи киритишнинг самарасини ҳисобланг.

## 5) Мушоҳада қилиш учун саволлар:

5.1. XX асрда Фолксваген компанияси АКШнинг Детройддаги корхоналарини кичик хажмдаги машиналар (малолитражка) ишлаб чиқаришга мажбур қилди. Бу ташқи рақобат маҳаллий ишлаб чиқаришнинг структураси ва самарадорлигини яхшилашга ижобий таъсир қилади деган гоъни аниглайсизми: \_\_\_\_\_

5.2. Протекционизм сиёсатининг ижобий ва салбий жihatларини курсатинг: \_\_\_\_\_

5.3. АКШда 1984 йили урнатилган импорт божлари туфайли пулат куйиш тармогида бандлик 14 минг кишига, уларга бутловчи қисмлар етказиб берадиган корхоналарда 2,8 минг кишига ортган. Лекин, пулат куйиш корхоналари маҳсулотини истеъмол қилувчи компанияларда бандлик 52 минг кишига қисқарган. Буни қандай изоҳлаш мумкин: \_\_\_\_\_

5.4. Ғарбий Европада “Умумий бозор”ни ташкил қилиниши кўплаб европа компанияларига муваффақиятли рақобат қилиш имкониятини яратиб берган. Буни тушунтиринг: \_\_\_\_\_

5.5. Узок муддатли даврда ташқи савдо мамлакатдаги бандлик даражасига таъсир қилмайди дейиш тўғрими: \_\_\_\_\_

**б). Статистик маълумотлар билан ишлаш учун топшириқлар.** Қуйида жадвалда келтирилган АКШнинг ташқи савдодаги тариф устамаларини таққосланг ва изоҳланг.

АКШнинг уйғунлашган ташқи савдо режими тариф колонкалари

ТИФ товар номенклатураси бўйича товар коди	Товар гуруҳит номери	Товарнинг қисқача номи	1 колонна	2 колонна	3 колонна	4 колонна
			Милдорий чеклашлар	Умумий тариф устамаси	Махсус божлар	Бошқалар
846250	60	Тикув машинаси	Йўқ	4%	Эркин (А,СА,Е, И,Ј, МХ)	минимум 30%

*Изоҳ: специфик божлар колонкасида: А- АКШдан энг қулай савдо имкониятлар режимини олган давлатлар, СА-НАФТА блоки давлатлари, Е- Кариб ҳавзаси давлатлари, И- Исроил, Ј- Анд савдо пакти, МХ- Мексика.*

*Умумий колонка – ЖСТ аъзолари учун, қолган колонкалар – АКШга дўст бўлмаган давлатлар учун. Улар учун минимал бож устамаси 30%, максимуми эса - чегарасиз. Масалан – 1000%гача).*

**Дунёнинг учта асосий иқтисодий марказларида тариф эскалацияси даражаси, %**

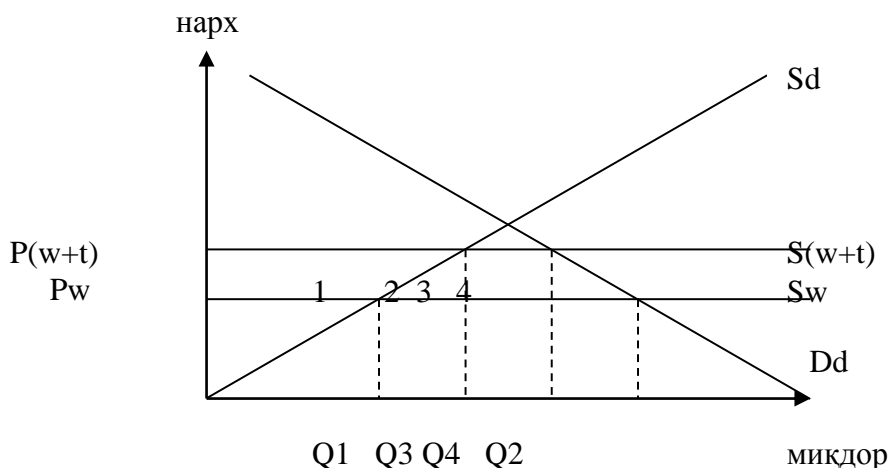
Маҳсулот турлари	АҚШ		ЕИ		Япония	
	1989	1996	1989	1996	1989	1996
Хомашё	3,2	6,2	6,0	10,9	3,8	3,9
Қ/х, ўрмон ва балиқ маҳсулоти	3,8	8,3	8,5	11,9	5,1	5,0
Минерал хом ашё	1,0	0,8	0,8	0,4	0,5	0,3
Ярим фабрикат	7,0	5,7	7,3	6,7	6,6	6,3
Тайёр маҳсулот	6,3	6,4	7,8	10,8	7,8	7,6

Жадвалдаги кўрсаткичларни таққосланг ва уларга баҳо беринг.

7) **Дастурий таъминот:** 7.1. махсус дастурга киритилган тестни ечинг.

7.2-**Графиклар.** Қуйидаги графикда келтирилган вазиятни изоҳланг.

1–Расм. Кичик мамлакатда импорт тарифини киритишнинг эффеќти.



Sd – миллий таклиф эгри чизиғи

Dd – миллий талаб эгри чизиғи

Sw – хорижий таклиф эгри чизиғи

Pw – хорижий ишлаб чиқарувчи нархи

P(w+t) – тарифни ҳисобга олган ҳолда хорижий ишлаб чиқарувчи нархи

Q1 – импорт тарифи киритилгунга қадар миллий ишлаб чиқариш ҳажми

Q2 – импорт тарифи киритилгунга қадар миллий талаб ҳажми

Q3 – импорт тарифи киритилгандан кейинги миллий таклиф ҳажми

Q4 – тариф киритилгандан кейинги миллий талаб ҳажми

(Q1-Q2) – бож ўрнатилгунга қадар импорт ҳажми

(Q3-Q4) – бож ўрнатилшгандан кейинги импорт ҳажми

1–фигура майдони – бож ўрнатилиши натижасида миллий ишлаб чиқарувининг ютуғи;

2–фигура майдони – (Q3 – Q1) ҳажмда маҳсулот ишлаб чиқаришнинг ортиқча харажатлари билан боғлиқ истъемолчиларнинг ортиқча соф йўқотишлари;

3–фигура майдони – давлат бюджетининг қўшимча даромади;

4–фигура майдони – Q4 даражасигача истъемолни қисқариши билан боғлиқ истъемолчи ортиқчалигининг соф йўқотишлари.

## 4 – Мавзу. Халқаро ишчи кучи миграцияси

### 1) Таянч атамага шарҳ ёзинг.

1.1. Жаҳон ишчи кучи бозори: \_\_\_\_\_

1.2. Меҳнат миграцияси: \_\_\_\_\_

1.3. Ақлли кишиларнинг кетиб қолиши: \_\_\_\_\_

1.4. Вақтинчалик, доимий ва мавсумий миграция: \_\_\_\_\_

1.5. Ассимиляция ва ноассимиляция миграция: \_\_\_\_\_

1.6. Бевосита ва билвосита миграция: \_\_\_\_\_

1.7. Интеллигенция оқими: \_\_\_\_\_

1.8. Эмиграцион цикл: \_\_\_\_\_

1.9. Қабул қилиш квотаси: \_\_\_\_\_

### 2) Тўғри жавобни танланг ва тагига чизинг.

- 2.1. Қайси асрга келиб ишчи кучи миграцияси ишлаб чиқариш омиллари ҳаракатининг етакчи кўринишларидан бирига айланди: а) XX аср, б) XIX аср.
- 2.2. 1990 йиллардаги ишчи мигрант сони 1960 йилларга нисбатан неча бараварга ортган: а) 12 баравар, б) 10 баравар.
- 2.3. Жаҳон ишчи кучи бозоридаги муносабатлар қайси ташкилотнинг ҳужжатлари билан тартибга солинади: а) халқаро меҳнат ташкилотининг 1962, 1975, 1982 йиллардаги Конвенциялари, б) Ғарбий Европа миграция кўмитасининг ҳужжатлари.
- 2.4. Мигрантларнинг асосий қисмини ташкил қилади: а) ўртача малакага эга ишчилар, б) ишлаб чиқариш ва ишлоқ хўжалигида банд паст малакали ишчилар.
- 2.5. Миграциянинг асосий тўртта йўналишлари ичида жами миграция оқимининг ҳажми бўйича қайси йўналиш биринчи ўринда туради: а) ривожланган мамлакатлар ўртасидаги оқим, б) ривожланаётган давлатлардан ривожланган давлатларга бўлган оқим.

**3) Машиқлар.** Минтақа аҳолиси 3.5 млн кишини ташкил этади, ҳудуди эса 4,2 минг кв.км. Аҳоли зичлигини ҳисобланг.

**5) Топшириқлар.** Қуйидаги жадвал маълумотлари асосида ишчи кучининг алмашув индексини 1996 ва 2014 йиллар мисолида ҳисобланг. Бунинг учун мамлакатдаги 15–59

ёшдаги меҳнатга яроқли аҳолининг учдан бирига нисбатан 15 ёшгача бўлган аҳоли нисбати таққосланади.

Кўрсаткичлар	1996	2000	2005	2010	2014
Меҳнатга яроқли аҳоли	8,588.5	9,018.4	10,224	17157,6	20550
15 ёшгача бўлган аҳоли	2,572.2	2,920.6	3,328.7	5,445.6	6,789.2
Ишчи кучини алмашув индекси					

### 5) Мушоҳада қилиш учун вазият таҳлили.

Тадиқот натижаларига кўра, охириги йилларда Россияга Ўзбекистондан 3.1 млн ишчи мигрант келади ва уларнинг ўртача мамлакатда қолиш муддати 4.7 ой. Бир вақннинг ўзида Россияда қарийиб 1.2 млн ўзбек мавжуд. Мигрантларнинг 31,6% Москва шаҳри ва Москва вилоятига келишади. Мигрантларнинг аксарият қисми эркаклар. (%). Аёллардан Россияга таълим олиш учун қизлар ҳамда турмушга чиққан аёлларпул ишлаб топиш учун келишади. Ўзбекистонлик мигрантларнинг 94,2% касбий маълумотга эга, 22% – олий маълумотга ёки илмий даражага эга, уларнинг 12% – техник муҳандис соҳалари мутахассислари, 10% — иқтисодий ва гуманитар соҳа вакиллари. Россияга Ўзбекистондан келаётган мигрантларнинг 17% юкори касбий малакага эга ишчилар бўлиб ҳисобланишади. Уларнинг 13% мутахассислиги бўйича ишга жойлашишга эришишади. Лекин, кўпчилиги мутахассислиги бўйича ишга жойлашаолмайдилар: 44% – ишчи қурилишда, 27% – маиший хизмат кўрсатиш соҳаларида, 21% – умумий овқатланиш соҳасида. Россияга келаётган мигрантларнинг асосий мақсади бўлиб пул топиш ҳисобланади. Фақатгина 5,6% мигрантлар Россияда қолишни хоҳлашади. Иш ҳақини қисман ёки тўлиқ олмаслик муаммоси билан 67,4% мигрант дуч келган, улардан 81% меҳнат ҳуқуқларини бузиш ҳолатларига эга бўлишган, 62,1% эса миллат белгиси бўйича камситишга дуч келган, 12,8% мигрант эса жиноятчиларнинг қурбонига айланишган.

Манба: интернет маълумоти. [www.mail.ru/novosti](http://www.mail.ru/novosti).

**Савол:** Ўзбекистон учун Россияга ишчи кучи миграциясининг ижобий ва салбий томонлари қандай ва уларни таққослаш асосида ўзига хос хусусиятларини очиб беринг.

**б) Статистик маълумотлар билан ишлаш учун масала.**(R.Bendini. Uzbekistan: selected trade and economy issues.2014. EU Parliament.DG EXPO/B/PolDep/Note/2013\_246 September 2013 PE 491.518).

Қуйида келтирилган Европа Иттифоқи парламентининг илмий ташқи сийсат бўлими маълумот асосида Ўзбекистондан Россияга ишчи кучи экспорт қилишнинг иқтисодий самарадорлигини баҳоланг:

2012 йилда ўзбекистоннинг меҳнатга яроқли аҳолисини 7% чет элда ишчи мигрант бўлиб ишлаган. Ишчи мигрантларнинг асосий қисми Россия давлатида жамланган ва Россия марказий банкининг маълумотига кўра, 2012 йилда Россиядан Ўзбекистонга пул ўтказмаларининг миқдори 5,7 млрд АҚШ \$ тенг бўлган ёки мамлакат ЯИМни 16% (расмий курс бўйича 12%) ташкил этган. Россияда ўзбек ишчи мигрантларнинг ўртача миқдорини 3 млн киши деб ҳисоблаган ҳолда, ишчи кучи миграциясининг Ўзбекистон иқтисодиётига таъсирини таҳлил қилинг. Бунда асосий эътиборни қаратиш керак - пул ўтказмаларнинг таъсири:

1. Истеъмолга;
2. Жамғарма нормасига;
3. Инфляция суръатига;

**7) Дастурий таъминот: махсус дастурга киритлган тестларни ечинг.**

## 5 – Мавзу. Халқаро капитал миграцияси ва трансмиллий компаниялар

### 1) Таянч атаманинг номини топинг:

1.1. Ишлаб чиқариш воситалари шаклида берилувчи хорижий инвестициялар:

1.2. Қимматбаҳо қоғозларни сотиб олиш орқали киритилувчи инвестициялар:

1.3. Активлар таркиби кўп миллатли корхона:

1.4. Хорижий инвестицияларни кириб келишига яратиб берилган қулай имкониятлар жамланмаси:

1.5. Хорижий инвесторларни фаолиятига таъсир қилувчи салбий омиллар йиғиндиси:

### 2. Жавобни ўйланг ва чизикчага “тўғри” ёки “нотўғри” деб ёзинг:

2.1. Бевосита хорижий инвестициялар бир мамлакат резидентлари томонидан хорижий инвестицияларга эга бошқа давлат ҳудудида жойлашган мулкдан узоқ муддатли манфаатдорликни қўлга киритишни акс эттиради: \_\_\_\_\_

2.2. Узоқ муддатли манфаат эса хорижий инвестицияларга эга корхона билан хорижий инвестор ўртасида узоқ муддатли ўзаро алоқадорликни мавжудлигида ва инвесторни бошқарувга сезиларли даражадаги таъсири билан белгиланади: \_\_\_\_\_

2.3. БХИ капитал ресурслари ўз ичига қуйидагиларни оладилар: акциялар шаклидаги капитал, реинвестиция қилинадиган даромадлар, бошқа турдаги фирманинг узоқ муддатли битимлари: \_\_\_\_\_

2.4. БХИ номоддий активлари ноишлаб чиқариш ва номолиявий активларни, мулкга эгалик ҳуқуқи, савдо маркасида фойдаланиш ҳуқуқи, саноат дизайни, ишлаб чиқариш ҳуқуқи ва франшиза кабиларни ўз ичига олади: \_\_\_\_\_

2.5. Портфел инвестицияларни сарфлашнинг сабаби – фойда олиш ва активлар портфелини диверсификация қилиш асосида риск даражасини пасайтириш: \_\_\_\_\_

### 3). Тўғри жавобни ёзинг:

3.1. Қайноқ пуллар бу: \_\_\_\_\_

3.2. ТМКларнинг транснационаллик индекси боғлиқ бўлади: \_\_\_\_\_

3.3. Инвестицион оқимларнинг учинчи гуруҳига киради: \_\_\_\_\_

3.4. Реинвестиция: \_\_\_\_\_

3.5. БХИ меҳнатнинг чегаравий маҳсулотини камайтиради, капиталнинг чегаравий маҳсулотини эса кўпайтиради: \_\_\_\_\_

3.6. Горизонталинтеграциялашган ТМК: \_\_\_\_\_

3.7. Вертикал интеграциялашган ТМК: \_\_\_\_\_

3.8. Бўлинган ТМК: \_\_\_\_\_

**4). Машқлар:**Қуйидаги жадвал маълумотлари асосида мамлакат иқтисодиётида қўшма корхоналарнинг турган ўрнига баҳо беринг.

Кўрсаткичлар	2010	2011	2012	2013	2014
Маҳсулот ишлаб чиқариш ҳажми (млрд сўм)	94	120	170	250	610
Йиллик ўзгариш (%)	....	27	41	47	244
ЯИМга нисбати (%)	10	15	20	25	30
Қўшма корхоналар экспорти	210	399	342	371	456
Йиллик ўзгариш (%)	....	90	-15	8	23
Ялпи экспортга нисбати (%)	5	9	11	13	15
Қўшма корхоналар импорти	290	350	370	420	470
Йиллик ўзгариш (%)	...	20	5	13	11
Ялпи импортга нисбати (%)	35	39	31	33	26
Экспортни импортга нисбати (%)	0,72	114	0,92	0,88	0,97
Ишчилар сони (минг киши)	52	80	85	90	94

**7) Топширик. Япониянинг “Sony” компаниясини 2014 йилдаги ҳисоботи асосида транснационаллик индексини ҳисобланг:**

$$I_T = 1/3 (A_I/A + R_I/R + S_I/S) \times 100 \%,$$

Бу ерда:

$I_T$  — транснационаллик индекси, %;

$A_I$  — хорижий активлар;

$A$  — ялпи активлар;

$R_I$  — хорижий филилаллардаги сотув ҳажми;

$R$  — ялпи сотув ҳажми;

$S_I$  — хорижий филилаллардаги ходимлар;

$S$  — жами ходимлар.

Йиллар	$A_I$	$A$	$R_I$	$R$	$S_I$	$S$
2009	1.8 млрд \$	2.8 млрд \$	350 млн \$	750 млн \$	120 минг.х	250 минг.х
2014	1.6 млрд \$	2.9 млрд \$	300 млн \$	650 млн \$	110 минг.х	240 минг.х

**б) Мушоҳада қилиш учун саволлар.** Қуйида хорижий инвестицияларга боғлиқ ҳолда технология бериш эффектнинг учта турикўрсатилган. Уларни изоҳланг:

-демонстрацион эффект: \_\_\_\_\_

-ишчи кучи кадрларининг қўнимсизлиги: \_\_\_\_\_

-миллий ва хорижий корхоналар ўртасида алоқаларни ўрнатиш ва ривожланиши: \_\_\_\_\_

**б) Статистик маълумотлар билан ишлаш учун топширик.**

Дунё миқёсида бевосита хорижий инвестицияларнинг 2013 ва танлаболинган йиллар кесимида кўрсаткичлари					
Кўрсаткичлар	Жорий нархларда қиймат кўрсаткичлари (млрд АҚШ\$)				
	1990	2005–2007	2011	2012	2013
БХИ экспорти	208	1 493	1 700	1 330	1 452
БХИ импорти	241	1 532	1 712	1 347	1 411
Жамғарилган ички БХИ	2 078	14 790	21 117	23 304	25 464

Жамғарилган ташқи БХИ	2 088	15 884	21 913	23 916	26 313
Жамғарилган ички БХИ даромади	79	1 072	1 603	1 581	1 748
Жамғарилган ички БХИ фойдалилик даражаси	3.8	7.3	6.9	7.6	6.8
Жамғарилган ташқи БХИ даромади	126	1 135	1 550	1 509	1 622
Жамғарилган ташқи БХИ фойдалилик даражаси	6.0	7.2	6.5	7.1	6.3
Жами чегаралараро бирлашишлар ва кўшиб олишлар	111	780	556	332	349
Хорижий филиалларда сотув ҳажми	4 723	21 469	28 516	31 532	34 508
Хорижий филиалларда кўшилган қиймат ҳажми	881	4 878	6 262	7 089	7 492
Хорижий филиалларнинг ялпи активлари	3 893	42 179	83 754	89 568	96 625
Хорижий филиалларнинг экспорти	1 498	5 012	7 463	7 532	7 721
Хорижий филиалларда бандлик (минг киши )	20 625	53 306	63 416	67 155	70726
<b>Меморандум:</b>					
ТМКлар ялпи ЯИМ	22 327	51 288	71 314	72 807	74 284
Ялпи шакллантирилган капитал	5 072	11 801	16 498	17 171	17 673
Роялти ва лицензия тўловлари	29	161	250	253	259
Товарлар ва хизматлар экспорти	4 107	15 034	22 386	22 593	23 160
<b>Манба: World investment report 2014. Table 2.</b>					

Жадвалда келтирилган маълумотларни таҳлил қилинг ва йиллар кесимида динамик ўзгаришларни баҳоланг. Асосий тенденция ва ўзгаришларни аниқлаб, хулоса қилинг.

#### 7) Дастурий таъминот. 7.1. Махсус дастурга киритилган тестни ечинг.

**7.2. Моделлар.** Қуйида келтирилган эконометрик моделлар асосида хорижий инвестицияларнинг қабул қилувчи мамлакатда иқтисодий ўсишга таъсирини ошириш имкониятини баҳоланг.

$$Y = s(1 - r)[(1 - n)A^* + nB^*] \quad (1)$$

$$Y_F = Y_S + s(1 - r)(B^* - A^*)(n_F - n_S) \quad (2)$$

Формулада:

Y-иқтисодий ўсиш суръати (4,5%);

s- ялпи жамғарма (25%);

r- оралиқ маҳсулотнинг ЯИМга нисбати (40%);

(1-n) - ялпи инвестициялар таркибида хорижий инвестициялар улуши (15%);

n – ялпи инвестициялар (100%);

A\* - миллий секторнинг инвестициялар қайтими (4,5);

B\* - хорижий секторнинг инвестициялар қайтими (7,5).

## **6 – Мавзу. Жаҳон иқтисодиётида эркин иқтисодий ҳудудларнинг тутган ўрни**

### **1) Таянч атамага шарҳ ёзинг.**

1.1. Эркин иқтисодий ҳудудлар: \_\_\_\_\_

\_\_\_\_\_

1.2. Махсус иқтисодий ҳудудлар: \_\_\_\_\_

\_\_\_\_\_

1.3. Савдо ҳудудлари: \_\_\_\_\_

\_\_\_\_\_

1.4. Саноат-ишлаб чиқариш ҳудудлари: \_\_\_\_\_

\_\_\_\_\_

1.5. Техникавий илмий ишлаб чиқариш: \_\_\_\_\_

\_\_\_\_\_

1.6. Сервис хизмат кўрсатиш ҳудудлари: \_\_\_\_\_

\_\_\_\_\_

1.7. Оффшор марказлари (солиқ гаванлари): \_\_\_\_\_

\_\_\_\_\_

1.8. Евроҳудуд: \_\_\_\_\_

\_\_\_\_\_

1.9. Комплекс ҳудуд: \_\_\_\_\_

\_\_\_\_\_

### **2) Тўғри жавобни танланг ва тагмга чизинг.**

2.1. Эркин иқтисодий ҳудудларни ташкил этишда қандай ёндашувлар мавжуд: а) нуқтавий ва ҳудудий, б) минтақавий ва халқаро.

2.2. Эркин иқтисодий ҳудудлардаги имтиёзларнинг турлари: а) ташқи савдо, солиқ, молиявий ва маъмурий имтиёзлар, б) ташқи савдо, солиқ, кредит ва суд имтиёзлари.

2.3. Ўзбекистонда “Эркин иқтисодий ҳудудлари” тўғрисидаги қонун қачон қабул қилинган: а) 1997 йил 22 май. б) 1996 йил 25 апрель.

2.4. Ўзбекистон Республикаси Президентининг “Навоий вилоятида эркин индустриал-иқтисодий зона ташкил этиш тўғрисида”ги Фармони қачон чиққан: а) 02.12.2008 й. N ПФ-4059, б) 12.12.2009 й. N ПФ-4059.

2.5. Навоий эркин иқтисодий ҳудудида киритилаётган хорижий инвестиция ҳажми қанча бўлганда 7 йилгача солиқ ва бошқа тўловлардан озод қилинади: а) 5 млн евродан 10 млн еврогача, б) 3 млн дан 10 млн еврогача.

2.6. Навоий эркин иқтисодий ҳудудида киритилаётган хорижий инвестиция ҳажми қанча бўлганда 10 йилгача солиқ ва бошқа тўловлардан озод қилинади: а) 10 млн евродан 30 млн еврогача, б) 15 млн дан 30 млн еврогача.

2.7. Навоий эркин иқтисодий ҳудудида киритилаётган хорижий инвестиция ҳажми қанча бўлганда 15 йилгача солиқ ва бошқа тўловлардан озод қилинади: а) 30 млн евродан ортиқ бўлганда, б) 25 млн евродан ортиқ бўлганда.

**3) Машқлар.** 2006 – 2010 йилларда Россия давлатининг Москва вилоятида “Дубна” ЭИХ яратиш учун жами бўлиб жорий нархларда 35 763,6 млн рубль сарфланган. Шундан 26, 257,1 млн рубль бевосита ЭИХ қуриш учун, 9 506,6 млн рубль эса 2006–2008 йиллардаги жорий эксплуатация харажатлари бўлиб ҳисобланади. Ушбу ЭИХни иқтисодий самарадорлик имкониятларини баҳолаганг.

**4) Топшириқлар.** Қуйида хорижий инвестициялар ёрдамида Канаданинг Квебек вилоятидаги эркин иқтисодий ҳудудларда ишлаб чиқаришни ривожлантиришни баҳолаш методологияси келтирилган. Кўрсаткичлар йиғиндиси ва уларнинг мос келиш ёки келмаслик ҳолатига кўра баҳо беринг.

№	Кўрсаткичлар	2005 й.
<b>1. Минтақавий ривожланиш дастурларини олдинга силжитиш кўрсаткичлари:</b>		
1.1.	Жами амалга оширилган лойиҳалар сони	2 099
1.2.	Молиявий ёрдамдан бошланғич самара, (яъни молиявий ёрдамсиз лойиҳасини амалга ошираолмайдиган субъектлар сони,% )	3.8 млрд \$ (73,9 %)
1.3.	Корхоналарнинг рақобатбардошлик кўрсаткичи (сотув ҳажмини ортиши)	51%
1.4.	Ўртача сотув ҳажмини ортиши	657 000
<b>2. Маҳаллий жамиятларнинг яшовчанлик индикаторлари</b>		
2.1.	Ривожланиш бўйича лойиҳаларнинг умумий сони	3,2 млрд \$
2.2.	Агентликларнинг жойлардаги ташаббуслари. Агентлик томонидан молиялаштирилган корхоналар кўрсатган хизматлар.	395
2.3.	2004–2005 йилларда лойиҳаларни молиялаштириш бўйича агентликнинг жорий молиявий мажбуриятлари	952,8
2.4.	2004–2005 йиллардаги реал харажатлар	286,3
2.5.	Олдинга даврда кечиктирилган лойиҳаларни қўшиб ҳисоблаганда жами қилинган харажатлар	606,3
<b>3. Билимларга асосланган иқтисодиёт (Инновациялар)</b>		
3.1.	Жорий лойиҳалар сони	916
3.2.	Корхоналарнинг рақобатбардошлик кўрсаткичлари: Сотув ҳажми ортганлиги ҳақида хабар берган респондентлар сони (%)	50,1%
3.3.	Кичик ва ўрта бизнес вакиллари томонидан лойиҳалар натижасида юз берган ўзгаришлар:	
3.3.1.	Ишлаб чиқариш харажатларини камайиши	26,5%
3.3.2.	Бизнес жараёнларини оптималлашуви	26,5%
3.3.3.	Янги хизматлар ва маҳсулотларни тижоратлашуви	24,8%
3.3.4.	Меҳнат унумдорлигин ўсиши	8,7%
3.3.5.	Патент олиш	2,2%
3.3.6.	Бошқа натижалар	11,3%
	Ушбу натижаларга эриши учун жами қилинган харажатлар	175,6 млн \$
<b>4. Таркибий муаммоларни бошидан кечираётган минтақа иқтисодиётини ривожлантириш</b>		
4.1.	Жорий лойиҳалар сони	690

4.2.	Таркибий муаммоларни бошидан кечираётган минтақани қўллаб қувватлаш кўрсаткичлари	
4.2.1.	Жорий лойиҳаларнинг умумий қиймати	486,7 млн \$
4.3.	Тадбиркорликни ривожлантиришга нисбатан самара эффекти:	
4.3.1.	Бизнесни рўйхатдан ўтказиш, ишни бошлаш ёки кенгайтириш босқичидаги корхоналар сони	1 287
4.4.	Бандлик кўрсаткичи:	
4.4.1.	Яратилган, сақлаб қолинган ва қайта тайёрлашдан ўтказилган ишчи ўринлари сони	3 592
4.5.	Маҳаллий жамиятларнинг ташаббус салоҳияти:	
4.5.1.	Агентлик томонидан молиялаштирилган корхоналар томонидан жойларда кўрсатилган хизматлар сони	168
4.6.	Ушбу натижаларга эришиш учун қилинган харажатлар:	
4.6.1.	Жами қилинган харажатлар	124,5 млн \$

**5) Мушоҳада қилиш учун саволлар.** Қуйида Туркия ва Венгрия давлатларидаги Эркин иқтисодий ҳудудларни (ЭИХ) ташкил этишда бошқа давлатларга нисбатан мавжуд бўлган афзалликлар келтирилган. Уларни ўқиб чиқинг ва таққосланг. Қайси мамлакатда ЭИХларга кўпроқ имтиёз берилган ва иқтисодий самара келтираётганини аниқланг:

**(Туркия):** мамлакатдаги 21 амал қилаётган ЭИХда 3401 та фирма фаолият кўрсатади. Улардан 652 таси чет эл корхонаси. Уларнинг экспорт ва импорт операциялар ҳажми 2002 йилда 16 608,066 млн долл бўлиб, мамлакат ташқи савдо айланмасининг 16% тенг бўлган. 6 та ЭИХда савдо айланмаси 1 млрд долл. ортиқ бўлган (IstanbulLeather – 4 076,782 млн долл., Istanbul-Ahl – 3 022,789 млн долл., Mersin – 2 766,312 млн долл., Aegean – 2 642,599 млн долл., Bursa – 1 108,767 млн долл., Istanbul-Trakya – 1 145,646 млн долл.).

1. ЭИХ анклав ҳудуд бўлиб ҳисобланади, яъни улар солиқлардан бутунлай озод қилинган, жумладан даромад ва корпоратив солиқлардан ҳам.
2. ЭИХ фаолият юргизадиган тадбиркорлар ҳар қандай йиғимлар ва божлардан озид қилинган (порт ва герб йиғимларидан ҳам).
3. Туркияда бошқа мамлакатлардан фарқли ўлароқ, ЭИХ ишлаб чиқарилган товарларни ички бозорда ҳам сотишга руҳсат берилган. Уларга нисбатан оддий ташқи савдо бошқаруви қўлланилади.
4. ЭИХда тўлов воситаси сифатида исталган эркин алмашинадиган валюта ишлатилиши мумкин.
5. Инвесторлар ўзларининг фойдасини ҳеч қандай чекловсиз олиб чиқиб кетишлари мумкин.
6. Туркияда яшаш ҳуқуқига эга чет эл фуқаролари ЭИХда 100% чет эл капитали билан корхонани тўлиқ эгаси бўлиши мумкин.
7. ЭИХ чет эллик мутахассислар ва бошқарув персоналини ишга ёллашга руҳсат берилган.
8. Қонунга кўра, корхона иш бошлагандан кейин 10 йил мобайнида ишчилар иш ташлашлари ёки бошқа турдаги норозилик билдиришлари таъқиқланади.
9. ЭИХда инфраструктура сифати халқаро даражага мос келади.
10. Ерни ижара ҳақи маъқул келадиган даражада, яъни паст ҳам эмас баланд ҳам эмас.
11. Ишчи кучини қиймати ривожланган давлатлардаги ишчи кучини қийматини атига 10% ташкил қилади холос.
12. Капитални инвестиция қилиш, маҳсулотни ишлаб чиқариш ва сотиш жараёнидаги барча бюрократик тўсиқлар минимум даражага келтирилган.
13. Маҳсулот ва хизматларнинг сифатини белгилаб берувчи ва Туркиянинг бошқа ҳудудларида амал қилувчи қонуний ҳужжатларда юелгиланган нормалар ЭИХда амал қилмайди.

**(Венгрия):** бу давлатда саноат парклари муваффақият билан ишлайди. Асосий ЭИХ саноат парклари бўлиб ҳисобланди ва уларнинг сони бугунги кунда 112тани ташкил этади, улардан 95та ҳақиқатда ишлайди 110 минг одам иш билан таъминланган, ишлаб чиқариш ҳажми эса 6 млрд АҚШ доллар. Маҳсулотнинг 80% экспорт қилинади. Жалб қилинган капитал ҳажми 1,5 млрд АҚШ доллар, меҳнат унумдорлиги мамлакат кўрсаткичидан 2 баравар юқори.

1. Маҳаллий солиқлардан 10 йил муддатга озод қилиш;
2. Ишлаб чиқариш дастгоҳларини олиб киришда 50–100% оралиғида импорт божидан озод қилиш;
3. Жамият солиғидан озод қилиш,агарда олинган фойда ишлаб чиқаришни ривожлантириш ва бандликни оширишга сарфланса;
4. Коммунал хизматларга тўловларни камайтириш ёки уларни тўлашни кечиктиришга рухсат бериш.

**7) Статистик маълумотлар билан ишлаш учун масала.**Қуйидаги жадвалда Канаданинг “Кемп Брайтон” оролини ривожлантириш ЭИХда амалга оширилган фаолиятнинг иқтисодий самарадорлигини таҳлил қилинг.(млн АҚШ \$).

**1–жадвал**

<b>Кўрсаткичлар</b>	<b>2001</b>	<b>2002</b>	<b>2003</b>	<b>2004</b>	<b>2005</b>	<b>жами</b>
<b>Бизнесни қўллаб қувватлаш:</b>						
Яратилган ишчи ўринлари	4,13	68	124	404	65	1,074
Фойдаланилган кредитлар	43,1	2,9	5,7	3,3	14,9	69,9
Янги экспорт ҳажми	55,7	2,9	81,1	0,5	20,4	160,6
<b>Маҳаллий жамиятларни қўллаб қувватлаш учун:</b>						
Фойдаланилган инвестициялар суммаси	0.9	5.0	6.9	1.7	4.1	18.6
<b>Инвестициялар:</b>						
Орол иқтисодиётига янги инвестициялар	42.2	–	3,5	16,0	14,1	75,8
<b>Тадқиқотлар ва сиёсатни ишлаб чиқиш:</b>						
Амалга оширилган илмий тадқиқот лойиҳалари	8	8	9	7	3	35
<b>Олдинга суриш:</b>						
Фаолиятнинг иқтисодий самарадорлиги (охирги 2 йил)	–	–	–	0,15	0,10	0,25

Манба:С.В. Приходько, Н.П. Воловик. Особые экономические зоны. Москва. ИЭЭП.2007.20 таблица. страница 126.

Умумий ҳисобда, орол иқтисодиётига киритилган 182 млн доллар миқдоридagi молиявий ёрдам 1999–2004 фискал йиллар оралиғида қуйидаги натижаларга эришиш имконини берган:

1. Жами бўлиб 9384 ишчи ўринлари яратилган;
2. Ишчиларнинг даромади 667 млн долл.ташкил этган (133 млн долл. бир йилда);
3. Федерал бюджетга солиқ ажратмалари 95 млн долл., вилоят бюджетига – 84 млн долл. ва маҳаллий бюджетга – 11 млндолл.;
4. Лойиҳаларни молиялаштиришга сарфланган ҳар бир лойиҳа 5 доллар миқдорида уй ҳўжаликларига қўшимча даромад келтирган.

Амалга оширилган чора тадбирлар натижасида орол иқтисодиётида диверсификация юз берди, “Ривожланиш нуқталари” пайдо бўлди. 1993 йилдан бошлаб орол иқтисодиётида бандликни ортиши, 1996 йилдан бошлабэса даромадни ўсиши бошланган. Автомобилсозлик ва фармацевика тармоқларида юқори ҳақ тўланувчи ишчи ўринлари пайдо бўлган. Буни қуйидаги жадваллар маълумотларида кўриш мумкин.

**2–жадвал**

Фискал йил	Ишчи ўринлари сони (дона)	Даромад миқдори (млн \$)
1999/2000	3 083	94 812 000
2000/2001	2 667	74 616 000
2001/2002	4 073	100 294 000
2002/2003	5 496	146 826 000
2003/2004	9 384	250 601 000

Манба:ўша ернинг ўзида. 21 ва 22 жадваллар..

**Савол:** ишчи ўринлари ва даромад миқдори, солиқ ажратмалари кўрсаткичлари асосида орол иқтисодиётига инвестицияларнинг ижобий таъсирини қандай изоҳлаш мумкин ?.

**7) Дастурий таъминот:** махсус дастурга киритилган тестларни ечинг.

## 7–Мавзу. Халқаро валюта-молия ва кредит муносабатлари

(Валюта – молия муносабатлари бўйича).

### 1) Таянч атамага шарҳ ёзинг:

- 1.1. Валюта курсини бозордаги талаб ва таклиф нисбатидан келиб чиққан ҳолда белгилаб берувчи курс: \_\_\_\_\_
- 1.2. Монетар ҳокимият вакилларида маълум бир вақт оралиғига миллий валютанинг курсини белгилаб қўйиш: \_\_\_\_\_
- 1.3. Иқтисодий сиёсат нуқтаи-назаридан антиинфляцион чора бўлиб ҳисобланувчи курс: \_\_\_\_\_
- 1.4. Ягона валюта тизимининг макроиқтисодий афзаллиги: \_\_\_\_\_
- 1.5. Тараққий этган давлатларда қайси йилдан эркин сузиб юривчи валюта курс ўрнатила бошланди: \_\_\_\_\_

### 2) Тўғри жавобни танланг ва тагига чизинг:

- 2.1. Қайси валюта курси режимда валюталарнинг тебраниш тезлиги ортиб кетганда мамлакатларнинг ҳам экспорт ҳам импорт операциялари қисқаради: а) эркин сузиб юривчи; б) фиксация қилинган;
- 2.2. Валюта курсининг ноаниқлиги нимани келтириб чиқаради: а) талабни қисқариши; б) валюта рискин;
- 2.3. Очиқ иқтисодиёт шароитида реал фоиз устамаларини қандай ўзгариши мамлакатга қисқа муддатли капитални кириб келишини рағбатлантиради: а) пасайиши; б) ортиши;
- 2.4. Қайси сабабга кўра мамлакатларда валюта курсини ўзгариши бир текис юз бермайди: а) инфляция суръатидаги фарқ; б) тўлов балансини ҳолатидаги фарқ.
- 2.5. Курсни пасайиши нархларни ўсиши билан бир вақтда юз берса: а) экспортнинг валюта самарадорлигини оширади; б) импортнинг рақобатбардошлигини оширади.

### 3) Машқлар.

- 3.1. Спот валюта операцияси бўйича битим тузилди. Валюталашув кунини топинг.

Битим имзолаш муддати		Валюталашув муддати	
Душанба	7 апрель		

- 3.2. Кросс курс. Агарда, Ўзбекистонда сўмнинг бир АҚШ долларига нисбатан курси 2700 сўмни ташкил этса, Қозоғистонда эса тенгани бир АҚШ долларига нисбатан курси 290 тенгани ташкил этса, кросс курс нечага тенг бўлади? \_\_\_\_\_
- 3.3. Форвард валюта операциясида томонлар уч ойдан кейин савдо амалга оширишга келишиб олдилар. Сотув ҳажми 100 минг АҚШ доллари. Курс: 1 АҚШ доллари тенг 2500 сўм. Сотув муддати келганда курс 3100 тенг бўлди. Сотилган 100 минг АҚШ долларининг сўмдаги нархини топинг. \_\_\_\_\_
- 3.4. Своп битими деб бир вақтнинг ўзида ҳам спот ҳам тескари форвард битимини имзолашга айтилади ва валюта курси, валюталашув муддати ва тўлов усули битим имзоланадиган вақтда белгиланади. Ҳамкорбанк 10 минг АҚШ долларини сотиш учун МАСК қўшма корхонаси билан 10 май куни шартнома имзолади. Валюта курси – 1 АҚШ доллари тенг 2500 ўзбек сўм. Спот курс тенг USD/UZB 2500. Своп ставка 0,100. Форвард курс 2600. Операция қийматини ҳисобланг.
- 3.5. Валюта опцион битимига кура, харидор 2 кундан кейин 10 минг долларни 2550 сумдан сотиб олишга рози булди. Лекин сотувчи пулни атилган нархда етказиб бера олмаслиги маълум булди. Харидорга европа опционни макулми ёки америка опционни ?

#### 4) **Топшириқлар.**

- 3.1. Биринчи дунё валюта тизимининг шаклланган йили, номини аниқланг ва унинг унсурларини кўрсатинг.
- 3.2. Иккинчи дунё валюта тизимининг шаклланган йили, номини аниқланг ва унинг унсурларини кўрсатинг.
- 3.3. Учинчи дунё валюта тизимининг шаклланган йили, номини аниқланг ва унинг унсурларини кўрсатинг.
- 3.4. Тўртинчи дунё валюта тизимининг шаклланган йили, номини аниқланг ва унинг унсурларини кўрсатинг.
- 3.5. Махсус қарз олиш ҳукуки ва Либор устамаси нималигини тушунтиринг.

#### 5) **Мушоҳада қилиш учун саволлар.**

- 5.1. Нима учун валюталарнинг номинал курси (3–12 йил) кўрсатилган вақт мобайнида ўзининг паритет даражасига қайтади ?
- 5.2. Нима учун ривожланаётган давлатларнинг валюта курси ўзининг реал валюта курсига нисбатан ва ЯИМнинг хорижий валютадаги ифодаси сунъий равишда оширилган деб ҳисобланади ?
- 5.3. Валюталарнинг нархини белгилаб беришда макроиктисодий ёндашувга кўра, ички барқарорликни паст инфляция шароитида ишлаб чиқаришнинг оптимал ёки максимал даражасидан қайси бири сифатида тушуниш тўғри ?
- 5.4. Валюталарнинг нархини белгилаб беришда макроиктисодий ёндашувга кўра, ташқи мувозанат бўлиши учун товарлар ва хизматлар бўйича халқаро ҳисоб-китобларнинг ҳамда миллий жамғарма ва инвестицияларнинг баланслашган даражасини ички барқарорлик ҳолати таъминланган бўлиши шартми?

#### 6) **Статистик маълумотлар билан ишлаш учун масалалар.**

6.1. Агарда АҚШда олтин стандартига кўра олтиннинг доллардаги нархи 1 троя унция учун 22,7 доллар деб, Англияда эса 7, 25 ф/сбелгилаб қўйилган бўлса, иккала мамлакат валюталарининг паритетини тенг: \_\_\_\_\_.

6.2. Харид қуввати паритети назариясига кўра, ўзбек сўми ва АҚШ долларининг валюта паритетини ҳисоблаб топинг.

№	Товарлар турлари	Ўзбекистондаги товарлар нархи	АҚШдаги товарлар нархи
1	Совун (1 дона)	1500 сўм	0,45
2	Гуруч (1 кг)	10000 сўм	0,30
3	Оёқ кийим (1 жуфт)	95000	60,0
4	Кийим (кўйлак 1 дона)	50000	45,0
5	Пайпоқ (1 жуфт)	2500	2,00
6	Гўшт (1 кг)	25000	5,00
7	Нон (1 дона)	1200	1,00
8	Тухум (1 дона)	450	0,10
9	Ёғ (1 литр)	10000	5,00
		.	

Ўзбек “Сўм”ининг АҚШ долларига нисбатан харид қуввати тенг: \_\_\_\_\_

#### 7) **Дастурий таъминот. 7.1. Махсус дастурга киритилган тестларни ечинг.**

**(Кредит муносабатлари бўйича).**

**1) Таянч атамага шарх ёзинг:**

1.1. Халқаро кредит: \_\_\_\_\_

1.2. Тижорат кредити: \_\_\_\_\_

1.3. Молиявий кредит: \_\_\_\_\_

1.4. Оралиқ кредит: \_\_\_\_\_

1.5. Товар кредити: \_\_\_\_\_

1.6. Валюта кредити: \_\_\_\_\_

**2) Тўғри жавобни танланг ва тагига чизинг:**

2.1. *Ўта қисқа муддатли кредитлар:* а) 3 ойгача, ҳафталик ва кунлик; б) 1 ойгача, ҳафталик ва кунлик.

2.2. *Қисқа муддатли кредитлар:* а) 3 йилгача (баъзан 5 йилгача), б) 1 йилгача, (баъзан 18 ойгача).

2.3. *Ўрта муддатли кредитлар:* а) 1 йилдан 5 йилгача; б) 1,5 йилдан 5 йилгача.

2.4. *Узоқ муддатли кредитлар:* а) 5 йилдан ортиқ; б) 8 йилдан ортиқ.

2.5. *Таъминланган кредитга гаров сифатида қўйилади:* а) юк ҳужжатлари ва кўчмас мулк; б) товар моддий захира ва олтин.

**3. Машқлар.**

**3.1.** Корхона 2013 йили банкдан 3 йил муддатга 15 млн АҚШ доллар кредит олди. Йиллик фоиз устамаси 20%. Валюта курси: 1 АҚШ доллари – 2300 сўм. Кейинги икки йил мобайнида валюта курси 2900 сўмгача ошди. Корхонанинг миллий валютадаги соф йўқотишларини ҳисобланг. Корхонада инвестициялар рентабеллиги 15% тушиб қолса, корхона қандай қилиб қарзни узиши мумкин ?

**3.2.** Корхонада банкдан хорижий валютада керидт олиш учун 2та вариант бор. Биринчи вариант: банк кредитни 5 йил муддатга беради, фоиз устамаси 20 %. Икинчи вариант: банк кредитни 3 йил муддатга беради, фоиз устамаси 12 %. Корхонага устамаси пастроқ, лекин муддати узоқроқ бўлган кредит керак. Муаммога қандай ечим топиш мумкин ?

**3.3.** Хорижий лойиҳа учун капиталнинг ўртача ҳисобланган қийматини қуйидаги формула асосида ҳисоблаб топинг:

$$K_0 = (1 - L)K_e + L \times K_d(1 - T)$$

Бу ерда:

$K_0$ – корхона учун лойиҳа капитали;

$K_e$ – корхона учун зарур капитал (30 млн);

$K_d(1 - T)$  – солиқ тўлангандан кейин қолган капитал қиймати. (85%), (75+25).

L - корхонанинг қарз коэффициентлари (қарз/ялпи активлар) (25%);  
T – инвесторнинг солиққа тортиш учун максимал солиқ устамаси (20%).

#### 4) Тоқшириқлар.

4.1. Жаҳон банки ўзининг юқори репутациясига таянган ҳолда ўзининг қимматли қоғозларини дунё молия бозорида жойлаштиради ва ўртача 7% йиллик дивидент тўлаган ҳолда ўзи 7,5%-8,5% устама олади. Агарда Ўзбекистон жаҳон банкидан 8,5 % устама билан қарз олса, уни тўлай олиш қобилиятини қандай баҳолаш мумкин ? (йиллик инфляция суръати 7,5%, лойихани рентабеллик даражаси 12 %).

4.2. Капитал бозори назариясига кўра, корхона учун лойихага зарур инвестицион маблағни керакли даромад даражасини ҳисобланг.

$$R_i = R_f + \beta_i(R_m - R_f)$$

Капитал активларга нархни шаклланиш нисбати билан ҳисобланиши керак. Бу ерда:

$R_i =$

$R_f =$

$R_m =$

$B_i =$

4.3. Қуйида берилган формула асосида корхона акциясининг қийматини ҳисобланг.

$$P_0 = DIV1 / (K_e - g)$$

Бу ерда:

$P_0 =$

$DIV1 =$

$K_e =$

$g =$

Кейин, корхона акционерлик капиталини қийматини ҳисобланг:

$$K_e = \left( \frac{DIV1}{P_0} \right) + g$$

#### 5). Мушоҳада қилиш учун саволлар.

5.1. Саноати ривожланган давлатларнинг инвесторлари ва қарздорлари ўзларининг активлари ва пасивларини валюталар комбинацияси ва тўлов муддатлари асосида бошқаришлари молиявий инновациялар деб тушуниш тўғрими ?

5.2. Евробозорлар корхоналарга молиялаштириш маблағларига бўлган эҳтиёжни ички капитал бозорига мурожат қилмасдан қондириш имконини беради. Бу миллий хўжаликлар учун фойда келтирадими ?

5.3. Инсонийлик фикр мулоҳазаларидан келиб чиқиб, ривожланаётган давлатларга энг кўп ташқи иқтисодий ёрдамни Швеция, Норвегия ва Дания каби Скандинавия давлатлар кўрсатишади. Қолган давлатлар эса озроқ миқдорда ёрдам беришади. Ушбу ёрдамни кўпайтириш мумкинми ?

5.4. Нима учун таққослаш усули сифатида ривожланган давлатларнинг қоқоқ давлатларга ташқи иқтисодий ёрдам кўрсаткичи ёрдам суммасини ялпи ички маҳсулот суммасига бўлиш усули билан аниқланади ?

5.5. Хўжалик юритишнинг байналминаллашуви ва миллий бошқарув шакллариининг чекланганлиги халқаро кредит муносабатларини бошқариш заруратини келтириб чиқарган деган фикр тўғрими ?

б) **Статистик маълумотлар билан ишлаш учун топширик.** Куйидаги жадвалда Ўзбекистон давлатнинг ташқи қарздорлик маълумотлари келтирилган. Уларни кўриб чиқинг ва йиллар кесимида қиёсий таққослаш асосида баҳо беринг. Таҳлилда ташқи қарз кўрсаткичларга эътибор қаратинг. Қарз кўрсаткичи билан бошқа макроиктисодий кўрсаткичлар ўртасидаги ўзаро алоқадорликни топинг.

1–жадвал

<b>Кўрсаткичлар</b>	<b>2000</b>	<b>2005</b>	<b>2010</b>	<b>2012</b>
<b>Ялпи ташқи қарз йиғиндиси</b>	4.980	4.656	7.782	8.853
Узоқ муддатли	4.228	4.168	7.140	8.112
Қисқа муддатли	282	112	238	337
Узоқ муддатли фоиз тўловлари	3	8	70	0
ХВФ кредитларидан фойдаланиш	469	376	405	404
<b>Тўланмаган қарз ва харажатлар</b>	4.228	4.168	7.140	8.112
Давлат кафолати билан	3.762	3.626	3.410	3.987
Расмий кредиторлар	2.117	2.451	3.184	3.824
Хусусий кредиторлар	1.645	1.175	226	163
Хусусий кафолатсиз	467	542	3.730	4.125
<b>Харажатлар (тўловлар)</b>	707	404	1.188	1.052
Давлатники	713	262	452	610
Расмий кредитларга	409	200	437	600
Хусусий кредиторларга	204	62	15	10
Хусусий кафолатсиз	57	142	736	441
<b>Ўрнини қоплаб бериш</b>	584	620	493	517
Давлатники	443	510	370	294
Расмий кредитларга	148	177	256	218
Хусусий кредиторларга	295	333	114	76
Хусусий кафолатсиз	141	110	123	224
<b>Фоиз тўловлари</b>	206	140	118	172
Давлатники	182	117	63	75
Расмий кредитларга	75	63	59	66
Хусусий кредиторларга	108	53	4	9
Хусусий кафолатсиз	24	23	55	97
<b>Қарз ресурслари кириб келиш оқими</b>				
Соф қарз оқими	-223	- 301	719	575
Расмий кредиторлар (IMF +)	195	5	181	382
Хусусий кредиторлар	-419	-305	538	191
Узоқ муддатли	-75	-239	514	152
Давлат кафолати билан	9	-271	-99	-66
Хусусий давлат кафолатсиз	-84	32	613	218
<b>Ташқи инвестициялар оқимлари</b>				
БХИ	75	192	1.628	1.094
Портфель инвестициялар	....	...	...	....
<b>Валюта таркиби</b>				
Евро	....	17.9	9.5	7.9
Доллар	56.7	52.8	54.2	60.5
Ташқи қарзни ЯМДга нисбати (%)	36.8	32.6	19.2	16.6
ЯМД (млрд АҚШ \$)	13.541	14.283	40.492	53.362
Қисқа муддатли ташқи қарз йиғиндиси	5.7	2.4	3.1	3.8
Кўп томонлама ташқи қарз йиғиндиси	9.1	17.1	15.6	19.3

**Манба: External debt statistics 2014. 162 page. World Bank.**

Гуруҳда талабалар кичик гуруҳчаларга бўлинган ҳолда (ҳар бир гуруҳда 3-5 та талаба) 1-диаграммада тасвирланган жаҳондаги айрим давлатлар ташқи қарзларининг ЯИМга нисбатан ўзгариши муҳокама этинг ва ўз фикрларингизни билдириг.

1-диаграмма



2008 йилда АҚШ ташқи қарзларининг ялпи ички маҳсулотга нисбатан салмоғи қарийб 90% ниташкил қилган. Букўрсаткич Россияда 37% ни, Қозоғистонда 102% ни, Украинада 64% ниташкил этган. Ўзбекистон Республикасида амалга оширилган оқилона қарз сиёсати натижасида ташқи қарзларининг ялпи ички маҳсулотдаги салмоғи 2008 йилда 13,3%ни ташкил қилди.

**8 – Мавзу. Жахон хўжалигида ривожланган мамлакатлар иқтисодиёти.  
(АҚШ иқтисодиёти бўйича).**

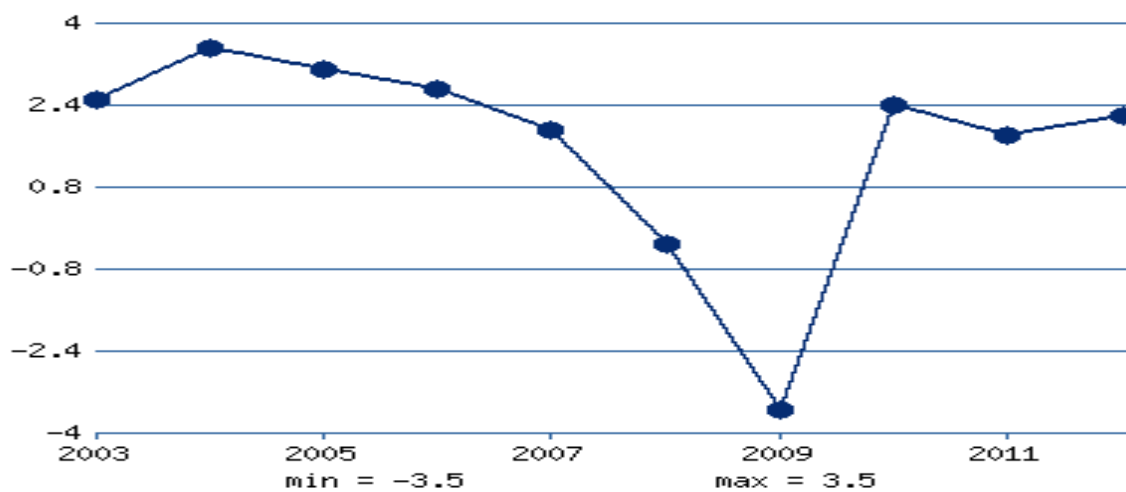
**1) Таянч атамага шарх ёзинг:**

1. Барқарор иқтисодиёт: \_\_\_\_\_  
\_\_\_\_\_
2. Иқтисодиётнинг тикланиш фазаси: \_\_\_\_\_  
\_\_\_\_\_
3. Кичик тебранишга эга бўлган инфляция: \_\_\_\_\_  
\_\_\_\_\_
4. Давлат қарзи: \_\_\_\_\_  
\_\_\_\_\_
5. Илм талаб товарлар: \_\_\_\_\_  
\_\_\_\_\_
6. Маршалл дастури: \_\_\_\_\_  
\_\_\_\_\_
7. АҚШда “Халол йўл” дастури: \_\_\_\_\_  
\_\_\_\_\_
8. АҚШда “Янги марралар” дастури: \_\_\_\_\_  
\_\_\_\_\_
9. АҚШда “Буюк жамият” дастури: \_\_\_\_\_  
\_\_\_\_\_
10. АҚШда “Рейганомика” дастури: \_\_\_\_\_  
\_\_\_\_\_

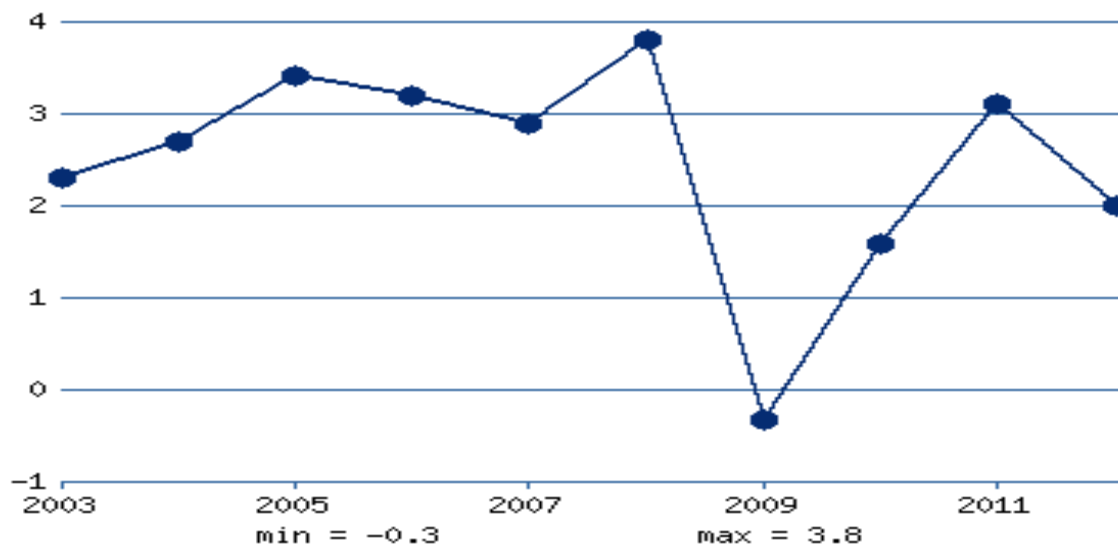
**2) Тўғри жавобни танланг ва тагига чизинг:**

- 2.1. *АҚШнинг 2014 йилдаги ЯИМси:* а) 16 трлн АҚШ \$, б) 17 трлн АҚШ \$.
- 2.2. *Энергетика кризиси қайси йиллари юз берган:* а) 1973–1975, б) 1976–1980.
- 2.3. *АҚШ иқтисодиётининг етакчи тармоқлари:* а) машинасозлик, кимё, электроника, нефт–газ, асбобсозлик, кемасозлик, авиатранспорт, б) пахтачилик, чорвачилик, машинасозлик, кимё, нефт–газ, электроника.
- 2.4. *Узоқ муддатли муаммоларга эътиборни қаратилиши, монетар сиёсатдан фарқли ўлароқ, фискал сиёсат усулларидан кўпроқ фойдаланиши қайси АҚШ президенти сиёсатига тегишли бўлган:* а) Р.Рейган, б) Б.Клинтон.
- 2.5. *Б.Клинтон маъмуриянинг энг катта ютуғи қайси:* а) ишсизлик даражасини 2000 йилда 5 % гача тушиши, б) ўртача иқтисодий ўсиш суръатини 5% гача кўтаргани.

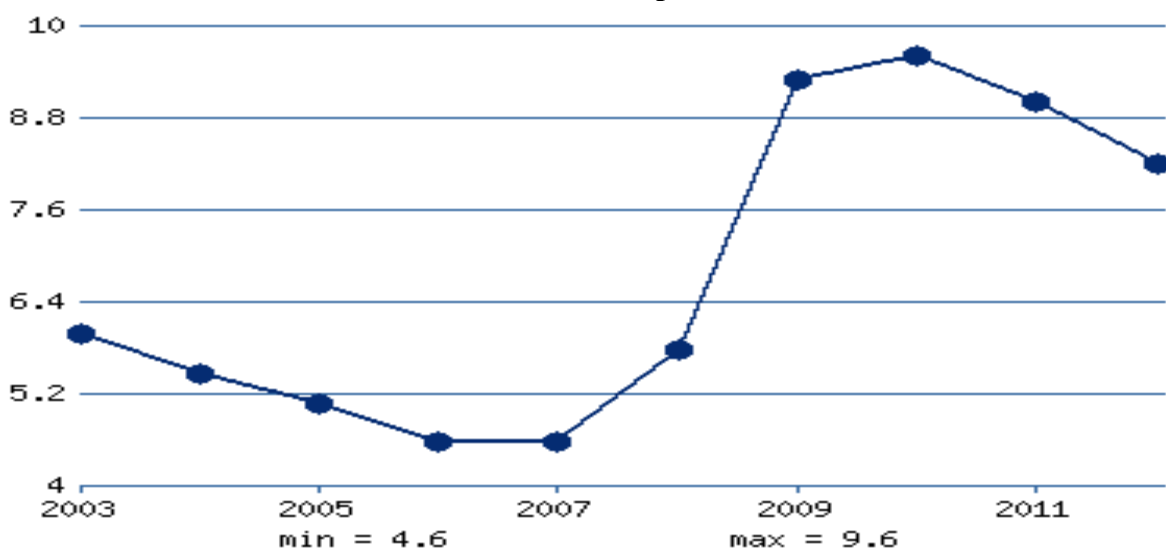
3) **Машқлар. АҚШ ЯИМни ўсиш суръатларини таҳлил қилинг ва уни инфляция ва ишсизлик кўрсаткичлар билан боғлиқлигини топинг.(%).**



**АҚШда инфляция, %**



**АҚШдаги ишсизлик даражаси, %**



#### 4) **Топшириқлар.**

4.1. АҚШда Президент В.Вильсоннинг маъмурияти томонидан қабул қилинган антимонополия қонунчилигини мазмунини тушунтиринг ва унинг мамлакат иқтисодлиётини ривожлантириш учун аҳамиятини очиб беринг.

4.2. 1913 йили президент В.Вильсон томонидан тузилган Федерал Захира Тизимининг АҚШ иқтисодиёти учун аҳамиятини ўрганинг ва тушунтиринг.

#### 5) **Мушоҳада қилиш учун савол.**

5.1. Б.Клинтон маъмурияти ҳокимият тепасига келгач, АҚШнинг халқаро миқёсда рақобатбардошлигини кучайтириш мақсадида янги технологияларни ишлаб чиқаришга кириб келишига ва олий таълим тизимини ислоҳ қилишга асосий эътибор қаратди ва жиддий натижаларга эришди. 2000 йили АҚШ дунё рақобатбардошлик рейтингида қайтадан биринчи ўринга чиқиб олди. Ушбу сиёсатнинг сабабаларини муҳокама қилинг ва ўзингизни фикрингизни билдириг.

#### 6) **Статистик маълумотлар билан ишлаш учун топшириқ.**

Ж.Буш ва Б.Клинтон маъмурияти даврида АҚШ иқтисодиётининг макроиқтисодий кўрсаткичларини ўзгаришларини қиёсий таққосланг ва изоҳланг.

Йил	Бюджет тақчиллиги	Бюджет тақчиллигини ЯИМга нисбати	Федерал давлат қарзи (млрд \$)	Реал ЯИМни ўсиши (%)	Инфляция даражаси (%)	Ишсизлик нормаси (%)	Жорий операциялар бўйича тўлов баланси сальдоси (млрд \$).
<b>Ж.Буш маъмурияти</b>							
1989	152,6	2,9	2863,3	3,4	4,2	5,3	-103,8
1990	221,4	4,0	3210,9	1,3	4,4	5,5	-92,7
1991	269,2	4,7	3662,8	1,0	3,9	6,7	-7,4
1992	290,4	4,9	4061,8	2,7	2,8	7,4	-61,5
<b>Б.Клинтон маъмурияти</b>							
1993	255,1	4,1	4406,6	2,2	2,6	6,8	-99,9
1994	203,2	3,1	4689,6	3,5	2,3	6,1	-15,2
1995	163,8	2,3	4950,6	1,4	2,7	5,6	-
2000	+128,8	-	-	4,4	2,0	4,2	-

#### 7) **Дастурий таъминот: махсус дастурга киритилган тестларни ечинг.**

**(Европа Иттифоқи ва Япония иқтисодиёти бўйича).**

**4) Савлларга жавоб топинг ва чизиқчага ёзинг:**

1. Европа Иттифоқи ЯИМни 70% ишлаб чиқарувчи 4та давлат: \_\_\_\_\_  
\_\_\_\_\_
2. Эврика дастури: \_\_\_\_\_  
\_\_\_\_\_
3. Европа Иттифоқи ЯИМни 2% ишлаб чиқарувчи ва ўта тор доирада ихтисослашувга эга давлатлар: \_\_\_\_\_  
\_\_\_\_\_
4. Европа Иттифоқи давлатларида аънавий етакчи тармоқлар: \_\_\_\_\_  
\_\_\_\_\_
5. Европа Иттифоқида АҚШ ва Японияга нисбатан орқада қолган саноат тармоқлари: \_\_\_\_\_  
\_\_\_\_\_
6. Эврика дастури: \_\_\_\_\_  
\_\_\_\_\_
7. Японияда иқтисодиётни “Қиммат иена”га мослашувинимани англатади: \_\_\_\_\_  
\_\_\_\_\_
8. Япониядаги иқтисодий тараққиётнинг янги модели ва унинг негизи: \_\_\_\_\_  
\_\_\_\_\_
9. Япония экспортнинг асосий товарлари: \_\_\_\_\_  
\_\_\_\_\_
10. XX асрнинг 70–80 йилларида Европа Иттифоқи давлатларида иқтисодиётни таркибан модернизация қилиш билан меҳнат унумдорлигини ортиши ўртасидаги боғлиқликнинг натижаси бу: \_\_\_\_\_  
\_\_\_\_\_

**2) Тўғри жавобни танланг ва тагига чизинг:**

- 2.1. *Европа Иттифоқида бюджетнинг даромади қайси турдаги солиқлар эвазига шаклланади: а) билвосита, б) бевосита.*
- 2.2. *1995 йили ЕИда бошланган иқтисодий ўсиш қайси омилларга боғлиқ бўлган: а) ишлаб чиқаришни модернизация қилиш эвазига корхоналарнинг фойдасини ортиши ҳамда инвестицион жараёни яхшиланиши, б) иътиёмолини кучайиши ва экспортни ўсиши.*
- 2.3. *XX асрнинг 90-йилларида Франция иқтисодиётига хос бўлган хусусият: а) юқори технологияли тармоқларни, қишлоқ хўжалиги ва ижтимоий соҳани қўллаб – қувватлаган ҳолда кескин тежамкорлик сиёсати, б) иқтисодий ўсишга давлатнинг иқтисодиётдаги таъсирини учайиши.*
- 2.4. *Европа Иттифоқида ижтимоий йўналтирилган бозор иқтисодиётининг энг катта афзаллиги нимада билинади: а) фуқаролик жамиятини янада жипслашган бўлиши, б) амалда ижтимоий тенгликни таъминланиши.*
- 2.5. *Японияда XX асрнинг 50–80 йилларида иқтисодий ўсиш 50%га меҳнат ва капитални ортиши эвазига, қолган 50%га меҳнат унумдорлигини ўсиши эвазига юз берган. Бу ўзаро боғлиқликнинг натижаси: а) рақобатбардошликни кучайиши, б) ЯИМни ортиши.*

**3) Машқлар. Европа Иттифокидаги иқтисодий ўсишни суръатларини омиллар таҳлилини АҚШ ва Япония кўрсаткичлари билан таққосланг.**

Ишлаб чиқариш функциясининг 1961 – 2001 йиллардаги баҳолаш натижалари. (%)

Давлатлар	Ўртача ўсиш суръати	Омилларнинг улуши				ЯИМни интенсив омиллар эвазига ўсиши
		Интенсив омиллар	Экстенсив омиллар			
			Жами	Инвестиция	Бандлик	
АҚШ	3,42	44,83	55,17	37,30	17,87	1,53
Япония	4,82	44,61	55,39	55,39	0,0	2,15
Германия	2,77	71,52	28,48	22,97	5,51	1,98
Британия	2,44	66,01	33,99	33,99	0,0	1,61
Франция	3,23	57,70	42,30	30,30	12,00	1,87

**4) Топшириқлар.**

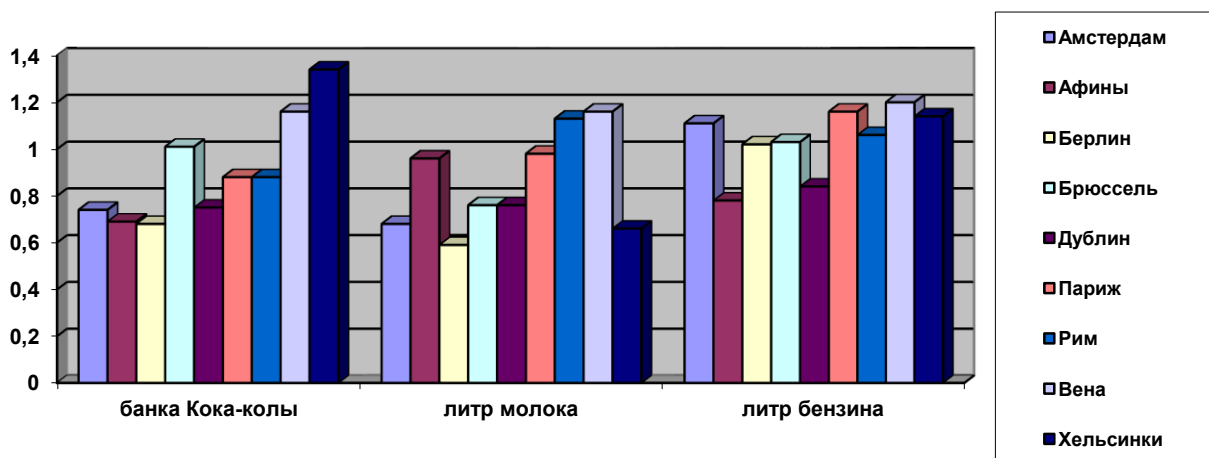
4.1. Японияда 1999 йилдаги 1\$=120,9 иенани 2000 йилда 1\$=102,6 бўлиши экспортни нарх омили бўйича рақобатга бардошлигини пасайтириб юборган, экспорт ҳажми эса 6,1%га қисқарган. Бу ҳолатни изоҳланг.

4.2. Японияда 1986 йили иена курси АҚШ долларига нисбатан 240 иенадан 120гача кўтарилган бўлсада, мамлакат экспорт ва импорти ўртасидаги ижобий сальдо 1981–1995 йиллар оралиғида 6 баравар ортган ва 130 млрд долларга етган. Ушбу ҳолатни тушунтиринг.

**5) Мушоҳада қилиш учун савол.**

5.1. Японияда 1986 йили ревальвациядан сўнг ишсизлик даражаси доимий равишда ўса бошлаган ва 1987 йилга келиб охириги 30 йил мобайнидаги рекорд даража – 3,2%га етган. Ишсизликни ўсиб кетишига кучли таъсир кўрсатган бошқа бир омил бўлиб фан-техника прогресси натижасида ресурс тежовчи технологияларни ишлаб чиқаришга кенг миқёсда жалб қилиниши ҳам сабаб бўлган. Ушбу сиёсатнинг сабабаларини муҳокама қилинг ва ўзингизни фикрингизни билдириг.

**6). Статистик маълумотлар билан ишлаш учун топшириқ:** Ягона Европа валютасини жорий этилиши қандай қилиб Европа Иттифоқини янада жипслашувига таъсир қилганлигини кока кола, сут ва бензин нархлари мисолида тушунтиринг ? (Манба: The World in 2002. Economist).



**7). Дастурий таъминот: махсус дастурга киритилган тестларни ечинг.**

## 9 – Мавзу. Ривожланаётган мамлакатлар – халқаро иқтисодий муносабатлар тизимида

### 1) Таянч атамага шарх ёзинг:

1.1. Ишлаб чиқаришнинг индустриялашган шакли: \_\_\_\_\_

\_\_\_\_\_

1.2. Ички бозор таркини диверсификациялашуви: \_\_\_\_\_

\_\_\_\_\_

1.3. Жаҳон бозоридаги қулай конъюктура: \_\_\_\_\_

\_\_\_\_\_

1.4. Нефт экспортёрлар: \_\_\_\_\_

\_\_\_\_\_

1.5. Қолоқ давлатлар: \_\_\_\_\_

\_\_\_\_\_

### 2) Тўғри жавобни танланг ва тагига чизинг:

2.1. *Ривожланаётган давлатларнинг дунё ЯИИМдаги улуши:* а) 37%, б) 41%.

2.2. *Саноатнинг ЯИИМ таркибидаги улуши:* а) 26%, б) 42%.

2.3. *Қишлоқ хўжалигини улуши:* а) 28%, б) 18%.

2.4. *Бозор иқтисодиётини ривожлантиришнинг суръатлари бўйича олдинга ўтиб кетиб қолган давлатларнинг сони 1951-1977 йилларда кўпайган:* а) 15тадан 40тагача, б) 20тадан 45тагача.

2.5. *Охирги 30 йил мобайнида ривожланаётган давлатларнинг дунё ЯИИМдаги улуши ўсган:* а) 14,2%дан 37,7%гача, б) 18, 2 %дан 41,3 %гача.

2.6. *Охирги 30 йил мобайнида ривожланаётган давлатларнинг дунё экспортида улуши ортган:* а) 24,3%дан 32,7%гача, б) 21,3%дан 35,7%гача.

3) **Машқлар:** Тез ривожланаётган давлатларнинг иқтисодий ўсиш суръатларини таҳлил қилинг. Таҳлил асосида Ўзбекистон ривожланган давлатларни қувиб етиши учун қанча вақт керак бўлишини ҳисоблаб топинг. Бунинг учун аҳоли жон бошига даромад кўрсаткичини ривожланган давлатларни ўртача кўрсаткичига (30минг АҚШ\$) етказишни иқтисодий ўсиш суръатига боғлаб ҳисобланг ва керакли вақт миқдорини топинг.

1 – жадвал

Мамлакатлар	Аҳоли жон бошига даромад (\$) (ХКП 2009)	Охирги 10 йилдаги ЯИМ ни ўртача ўсиш суръати	Етакчи мамлакатларни қувиб етиш учун зарур ўсиш суръатлари	Етакчи мамлакатларни қувиб етиш учун зарур вақт
Россия	15039	5.4	4.6	17
Бразилия	10445	1.1	5.3	119
Хитой	6549	8.3	5.7	23
Ҳиндистон	2930	4.9	7.4	50
Польша	17536	4.3	4.0	22
Мексика	14534	2.4	4.7	55
Аргентина	14125	1.7	4.0	17
Туркия	13138	2.7	5.3	28
Жанубий Африка	10136	1.3	4.6	135
Индонезия	3980	1.7	7.2	181
Ўзбекистон	1800	8,0		

Манба: [www.rian.ru](http://www.rian.ru)

- 4) **Топширик.** Қуйидаги жадвалда келтирилган статистик маълумотлар асосида Янги Индустириал Давлатларнинг иқтисодий салоҳияти ва иқтисодий ўсиш суръатларига баҳо беринг.

2-жадвал

Янги индустириал давлатларнинг иқтисодий салоҳияти

Мамлакат	Аҳоли 2000й млн	Худуди минг кв.км	Аҳоли зичлиги 2000й	ЯИМ. 2000й. Млрд \$	ЯИМ 2010. Млрд \$	Жон бошига ЯИМ. 2000й.	Жон бошига ЯИМ 2010й.	1995-2000 ЯИМ ўсиши %	2010й ЯИМ ўсиши %
Ж.Корея	47	99	479	421,1	1.014	8,910	20756	7,8	6.2
Тайван	25	...	...	...	...	...	...	...	10.9
Гонконг	7	...	...	176,2	224,5	25,920	31757	9,2	7.0
Сингапур	4	1	6,587	99,4	208,8	24,740	41122	8,1	14.5
Бразилия	170	8,547	20	610,1	2.088	3,580	10710	3,2	7.5
Мексика	98	1,958	51	497	1,034	5,070	9123	5,3	5.4
Чили	15	757	20	69,8	212,7	4,590	12431	4,0	5.2
Майлайзия	23	330	71	78,7	237,8	3,380	8372	5,7	7.2
Таиланд	61	513	119	121,6	318,5	2,000	4608	3,5	7.8
Аргентина	37	2,780	14	276,2	368.7	7,460	9124	-1,7	9.2
С.Арабистон	21	2,150	10	149,9	434,7	7,230	15835	1,8	4.1

Манба: World economic outlook. 2011 and previous years reports. IMF report.

5) **Мушоҳада қилиш учун саволлар.**

5.1. Аргентинада 1991 йилдан бошлаб иқтисодиётни бошқаришда бозор механизмидан фойдаланишга ўтилиши саноат ишлаб чиқаришини жонлантириш ва экспортни кўпайтиришга имкон берган. Ушбу ҳолатни изоҳланг.

5.2. Жанубий Корея давлатидаиндустриализация жараёнида инфляция суръатларини ўсишини кескин пасайтирилишига асосий эътибор қаратилган. Бунинг сабабини тушунтиринг.

**6).Статистик маълумотлар билан ишлаш учун масала.** Қуйида келтирилган 3 – жадвал маълумотлари асосида кўрсаткичлар ўртасидаги фарқни қиёсий таҳлил усулида топинг ва уларни изоҳланг.

3-жадвал

Жаҳон иқтисодиётидаги 4та давлатлар гуруҳида ЯИМ, экспорт ва импортнинг қиёсий ўсиш суръатлари

Кўрсаткич	Йиллар	Саноати ривожланган давлатлар	Лотин Америкаси ЯИД	Ривожланаётган давлатлар	Осиё ЯИД
ЯИМ	1965-1974	4.3	6,5	6.2	8.3
	1974-1977	2.7	4.0	4.9	8.0
Экспорт	1965-1974	9.3	4.0	6.0	11.9
	1974-1977	3.4	-0.9	4.1	13.2
Импорт	1965-1974	8.5	8.8	7.8	11.0
	1974-1977	2.7	-0.4	3.8	5.3

Изоҳ: Осиё ЯИД: Ж.Корея, Тайван, Гонконг, Сингапур, Филиппин, Малайзия ва Таиланд.

**7) Дастурий таъминот: махсус дастурга киритилган тестларни ечинг.**

## 10 – Мавзу. Халқаро минтакавий иқтисодий интеграция

### 1) Таянч атамага шарх ёзинг.

1.1. Интеграция: \_\_\_\_\_

\_\_\_\_\_

1.2. Юмшоқ интеграция: \_\_\_\_\_

\_\_\_\_\_

1.3. Чуқур интеграция: \_\_\_\_\_

\_\_\_\_\_

1.4. Микёс самараси: \_\_\_\_\_

\_\_\_\_\_

1.5. Дифференциялашган интеграция: \_\_\_\_\_

\_\_\_\_\_

### 2) Тўғри жавобни танланг ва тагига чизинг.

2.1. *Тараққий этган давлатларда иқтисодий интеграцияни ривожланиши бозлиқ бўлади:*

а) рақобат кураши ва бозорда позицияни сақлаб қолишга, б) ижтимоий – иқтисодий муаммоларнинг ҳал қилинишига.

2.2. *Ривожланаётган давлатларда иқтисодий интеграцияни секин ривожланишининг сабаблари:*

а) ижтимоий ва иқтисодий муаммоларнинг ҳал қилинмаганлиги, б) ишлаб чиқариш кучларини жуда паст даражада ривожланганлиги.

2.3. *Иқтисодий ҳамкорлик билан иқтисодий интеграциянинг бир – бирдан фарқи нимада:*

а) ҳамкорлик камситишларни камайтирса, интеграция бутунлай йўқотади, б) ҳамкорлик камситишларни бутунлай йўқотса, интеграция камайтиради.

2.4. *Интеграцион уюшмани тузаётганда қандай эффект юз беради:*

а) янги савдони яратиш эффекти ва савдони камайиш эффекти, б) ишлаб чиқаришни ўсиши ва ишлаб чиқаришни қисқариши эффекти.

2.5. *Иқтисодий интеграция самарадорлигини аниқлашнинг муқобил усули қайси:*

а) аҳоли турмуш фаровонлигини яхшиланиши, б) иқтисодий ўсиш суръатларини кўтарилиши.

### 3) Машқлар.

3.1. Испанияда аҳоли жон бошига тўғри келадиган даромад Европа Иттифоқи ўртача кўрсаткичининг 70%, ишсизлик даражаси эса 2,5 бараварини ташкил қилади. Бу кўрсаткичлар бўйича Испания Европа Иттифоқининг минтакавий ривожланиш дастурига мос келиш ёки келмаслигини аниқланг.

3.2. Европа Иттифоқида дифференциялашган интеграция моделига тортилган қуйидаги давлатларни изоҳланг: Греция, Португалия, Ирландия, Швеция, Буюк Британия, Словакия, Венгрия, Болгария, Руминия.

### 4) Топшириқлар:

Греция давлатини Европа Иттифоқига қўшилишининг ижобий ва салбий оқибатларини таҳлил қилинг ва таққосланг.

**5)Мушоҳада қилиш учун вазият таҳлили (Кейс стади). Европа Иттифоқи автомобил бозорининг эркинлашуви.**

Европада автомобилсозлик саноати ҳар доим давлатдан ёрдам сифатида импорт квотаси ва экспортни ихтиёрий чеклаш каби шаклда кўмак олган. Европа Иттифоқи протекционизмининг бошқа бир сабаби бу тармоқда катта миқдорда ишчи ўринлари мавжуд ва у катта мамлакатлар учун муҳим аҳамиятга эга. Бу ҳолат XX асрнинг 90 йилларида ҳам сақланиб қолган эди. Бу тармоқда ишчилар жуда яхши уюшган ва ҳукуматга таъсир ўтказиш имконитига эга. Ушбу тармоқ бозорини эркинлашуви Франция ва Италияда жуда кучли норозичилик келтириб чиқариши керак эди. Чунки улар ташқи рақобатдан кўпроқ қийналар эди. Тадқиқот натижаларига кўра, 90 – йилларда Европалик ишлаб чиқарувчилар оммабоп ва махсус автомобиллар сегментида ҳам сифат ҳам унумдорлик бўйича рақобатчиларга ютқазилар эди. Лекин, 1991 йил Япония давлати билан имзоланган шартномага кўра Европа Иттифоқи бозорида япон автомобилларига анча эркин шароит яратиб берилди. Шартнома япон автомобилларини импорт квотасини Италияга тўрт, Францияга икки баравар кўпайишига рухсат берди.

Одатда бозорни эркинлашувини мутахассислар бозор иштирокчиларининг (давлат органлари ёки оддий истъёмолчилар) хоҳиш истакларидаги ўзгаришлар билан изоҳлашади. Лекин, 90 йиллардаги Европа Иттифоқи автомобил бозорини эркинлашувини юқорида келтирилган аргумент тушунтириб бера олмайди. Чунки, Daimler-Benz, BMW ва Porsche компанияларидан бошқа ҳамма ишлаб чиқарувчилар бозорни эркинлашувига қарши эдилар.

**Савол:** *Европа Иттифоқи автомобил бозорини эркинлашувини қайси сабаблар билан изоҳлаш мумкин ?.*

**б).Статистик маълумотлар билан ишлаш учун масала.** 1987 йили Европа Иттифоқи ягона бозори яратилди. Ушбу бозорнинг интеграциялашув даражасини қуйида келтирилган жадвал маълумотлари асосида таҳлил қилинг.

Давлатлар	Реал ЯИМ			Саноат ишлаб чиқариш индекси			Истъёмол нархлари индекси			Ишсизлик даражаси		
	1999	2000	2001	1999	2000	2001	1999	2000	2001	1999	2000	2001
АҚШ	4,2	5,0	2,5	4,1	5,6	-0,3	2,2	3,4	3,4	4,2	4,0	4,4
Япония	0,8	1,6	-0,1	1,0	5,3	-1,7	-0,3	-0,7	-0,3	4,7	4,7	4,8
Британия	2,3	3,0	2,7	0,5	1,4	-0,2	1,6	2,9	2,2	4,3	3,8	3,3
ЕИ	2,5	3,5	2,6	1,8	5,4	2,7	1,1	2,3	2,8	10,0	9,1	8,4

ЕИ	1963	1970	1975	1980	1985	1990	1995	1997	1998	1999	2000
Ўзаро ички экспорт	55,8	53,1	52,2	55,7	54,4	66,3	65,9	69,5	69,2	69,6	62,0
Ўзаро ички импорт	50,3	56,1	55,5	54,1	57,6	63,3	62,2	60,3	59,9	59,8	62,0

Манба: БМТ, ЭКОСОС. Обзор мирового экономического и социального положения за 90-е годы. IMF Overview of the World Economy Annual Report, 1999; United Nations conference on Trade and Development Report, 1999; European Economy № 71, 2000, с.290-293.

**7) Дастурий таъминот: махсус дастурга киритилган тестларни ечинг.**

## 11 – Мавзу. Жаҳон иқтисодиётини тартибга солишда халқаро ташкилотларнинг роли

### 1) Таянч атамага шарҳ ёзинг:

1.1. Бирлашган Миллатлар Ташкилоти: \_\_\_\_\_

1.2. Жаҳон Банки: \_\_\_\_\_

1.3. Халқаро Валюта Фонди: \_\_\_\_\_

1.4. ЮНКТАД: \_\_\_\_\_

1.5. ЭКОСОС: \_\_\_\_\_

1.6. Халқаро Валюта Корпорацияси: \_\_\_\_\_

1.7. Халқаро Тараққиёт Уюшмаси: \_\_\_\_\_

1.8. Жаҳон савдо ташкилоти: \_\_\_\_\_

1.9. ЮНИДО ташкилоти: \_\_\_\_\_

1.10. Иқтисодий ҳамкорлик ва ҳавфсизлик ташкилоти: \_\_\_\_\_

### 2) Тўғри жавобни танланг ва тагига чизинг.

2.1. *Бирлашган миллатлар ташкилоти қанлай вазифани бажаради:* а) ҳавфсизлик ва ижтимоий – иқтисодий тараққиёт масалалари, б) экология ва ижтимоий – иқтисодий барқарорлик масалалари.

2.2. *Жаҳон банки қандай вазифани бажаради:* а) иқтисодий барқарорликни таъминлаш ва ижтимоий – иқтисодий ислохотларга кўмаклашиш, б) иқтисодий ўсиш ва иқтисодий тараққиётни тезлаштириш.

2.3. *Халқаро валюта фонди қандай вазифани бажаради:* а) дунё валюта тизимини назорат қилиш, б) дунё валюта тизимининг барқарорлигини таъминлашга кўмаклашиш.

2.4. *ЮНКТАД ташкилоти қандай вазифани бажаради:* а) тараққиётга ва миграция масалаларига кўмаклашади, б) ташқи савдо ва ривожланиш масалалари билан шуғулланади.

2.5. *ЭКОСОС ташкилоти қандай вазифани бажаради:* а) барқарор экологик тараққиётга кўмаклашади, б) иқтисодий ва ижтимоий тараққиётга кўмаклашади.

2.6. *Халқаро валюта корпорацияси қандай вазифани бажаради:* а) дунё валюта тизими барқарорлигини таъминлаш учун стабилизацион кредитлар беради, б) дунё мамлакатлари ташқи қарзларини камайтириш учун стабилизацион кредитлар беради.

2.7. *Халқаро тараққиёт уюшмаси қандай вазифани бажаради:* а) энг қолоқ давлатларга кредитлар беради, б) бозор иқтисодиётини тез ривожлантираётган давлатларга кредитлар беради.

2.8. *Жаҳон савдо ташкилоти қандай вазифани бажаради:* а) халқаро савдони ўсиши ва барқарорлигини таъминлаш, б) халқаро савдодаги тўсиқларни камайтириш ва эркинлаштириш.

**3) Машиқлар.** Ўзбекистонда қишлоқ хўжалигига бериладиган ялпи давлат дотацияси 1997–1999 йилларда энг юқори бўлган:

- 1997 йил - 9,2 %;
- 1998 йил - 23,9 %;
- 1999 йил – 11,9 %.

Фараз қилинг, жаҳон бозоридаги нарх – 15%га ўзгармоқда, миллий валюта курси эса 10 %га ҳар йили девальвация қилинмоқда. Ушбу вазиятда 1999 йил кўрсаткичидан келиб чиққан ҳолда қишлоқ хўжалик корхоналарига кўрсатилиш керак бўладиган ёрдам миқдорини ҳисоблашга ҳаракат қилинг.

**3) Топшириқлар.** ЖСТнинг қишлоқ хўжалигига дотация бериш бўйича яшил корзина чораларига Ўзбекистонда қўлланилаётган сув хўжаликларини қўллаб қувватлаш чоралари кирмайди ва улардан исталганча фойдаланиш мумкин. Ўзбекистонда бюджет маблағлари эвазига сув хўжалиги объектларини эксплуатацияси учун маблағ ажратилмоқда ва улар бюджетнинг харажатларини 6–8% ташкил этади ёки тармоқ иқтисодиётга йўналтирилаётган маблағларни 70% ташкил этади. Бу тармоқнинг пул маблағларига бўлган эҳтиёжини 70% қондирилишини англатади. Таъкидлаш керакки, Ўзбекистонда суғориладиган ерларнинг 80% (3,5 млн.га) дренаж қурилмаларини талаб этади. Маблағ етишмаслиги сув хўжалиги тармоғи объектларини техник жиҳатдан етарли даражада ушлаб туришни имконини бермаябди. Бу эса ерларнинг мелиоратив ҳолатини ёмонлашуви ва корхоналарнинг молиявий аҳволини оғирлишаувиға олиб келмоқда.

*Ушбу вазиятни ҳисобга олган ҳолда энг мақбул чора тадбирларнинг вариантларини таклиф қилинг.*

**5) Мушоҳада қилиш учун муаммоли вазият таҳлили.** Ўзбекистон Республикаси 2020 йилга бориб Жаҳон савдо ташкилотига (ЖСТ) аъзо бўлишни режалаштиромқда. Қуйида ЖСТга аъзо бўлишнинг мамлакат қишлоқ хўжалиги ишлаб чиқаришиға таъсирини юмшатиш чоралари ҳақидаги маълумот келтирилган. Уни ўқиб чиқинг ва мушоҳада қилинг.

ЖСТга аъзо бўлаётган давлат қишлоқ хўжалик маҳсулотларини импорти бўйича маълум бир мажбуриятларни зиммасига олиши керак бўлади. Бу мажбуриятлар айрим ҳолатларда мамлакатнинг имкониятларини чеклаб қўяди. ЖСТнинг Ўзбекистонга қўйётган импорт тарифларини ўрганиш учун уларни ЕИ қишлоқ хўжалик маҳсулотлари тарифлари билан таққослаймиз.

Маҳсулот номлари	Божхона божлари устамаси (%)			Қўлланиши зарур чора ва тадбирлар
	ЕИ давлатлари *	Ўзбекистон	Чекланиш (+,-)	
Қанд	50	30	-20	Миллий ишлаб чиқарувчини ҳимоялаш
Ўсимлик ёғи	6	5	-1	Импортни кенгайтириш
Чой	1	5	+4	Чой ҳом ашёси импортини кенгайтириш

Буғдой	12	5	-7	Қаттиқ сортли буғдой импортини кенгайтириш
Картошка	7	30	-23	Миллий ишлаб чиқаришни рағбатлантириш
Пишлоқлар	40	5	-35	Ички бозорда товар ассортиментини кенгайтириш учун импортни қўллаб қувватлаш
Мол гўшти	108	10	-98	Импортни кенгайтириш

Манба: (\*) ЖСТ секретариати. Ўзбекистон Республикаси Вазирлар Маҳкамасининг 7.01.04 й № 4 қарорига илова № 1.

Юқоридаги жадвал маълумотларига кўра, Ўзбекистонда кўплаб товар гуруҳлари бўйича импорт божлари ЕИга нисбатан паст ва бу ЖСТга киришда муаммо туғдирмайди. Бироқ, қанд ва картошка бўйича улар анча баланд. Уларни пасайтириш маҳаллий ишлаб чиқаришга қийинчиликлар туғдириши аниқ.

*Ушбу вазиятда Ўзбекистон ҳукумати қандай чора тадбир қўллаши мумкин ёки лозим?*

#### **б) Статистик маълумотлар билан ишлаш учун масалалар.**

Ўзбекистонда бюджетдан ташқари маблағлар эвазидан қуйидаги турдаги имтиёзли кредитлар ажратилади:

- Марказий Банкни амалдаги қайта молиялаштириш устамасини 1/6 қисми миқдоридаги фоиз билан – бошланғич капитални шакллантириш учун;
- Марказий Банкни амалдаги қайта молиялаштириш устамасини 1/3 қисми миқдоридаги фоиз билан – қишлоқ хўжалик техникасини сотиб олиш ва фермер хўжалиklarини ривожлантириш учун;
- Марказий Банкни амалдаги қайта молиялаштириш устамасини 40% қисми миқдоридаги фоиз билан – хом ашёни қайта ишлаш учун;
- Марказий Банкни амалдаги қайта молиялаштириш устамасини 45% қисми миқдоридаги фоиз билан – бошқа мақсадларга.

2003 йилдан бошлаб мамлакатимизда фермер хўжалиklarини йиллик 5% устама билан давлат буюртмаси бўйича маҳсулот ишлаб чиқарувчилар учун 18 ойгача бўлган муддатга кредит берилмоқда. Бу кредит маблағлари иш ҳақи, материал – техник ресурслар ва машина – трактор парклари хизматларидан фойдаланишга сарфланиши мумкин. Ушбу кредитлардан фойдаланишнинг қанчалик даражада фермер хўжалиklarига мос келишини ҳисобланг.

№	Кўрсаткичлар	Ўлчов бирлиги	2010 й	2011 й	2012 й
1	Экин майдони	га	70	70	70
1.1.	а) пахта	га	32	33,5	33,2
1.2.	б) буғдой	га	38	36,5	36,8
2	Ишлаб чиқариш харажатлари	м.с	100644,0	107778,0	107448,0
2.1.	Шундан иш ҳақи	м.с	30513,0	30937,9	34896,5
3	Ялпи маҳсулот	м.с	136000,0	157774,0	157774,0
4	Фойда	м.с	35356,0	49996,0	50326,0
4.1.	1 га ҳисобига фойда	м.с	505,1	714,2	718,9
5	Рентабеллик	%	35,1	46,4	46,8

#### **7) Дастурий таъминот: махсус дастурга киритилган тестларни ечинг.**

## 12 – Мавзу. Жаҳон хўжалигининг глобаллашув жараёнларида Ўзбекистоннинг иштироки

1) Таянч атамага шарҳ ёзинг.

1.1. Иқтисодий глобаллашув: \_\_\_\_\_

1.2. Ташқи қарздорлик: \_\_\_\_\_

1.3. Миллий иқтисодиёт таркибида хорижий сектор \_\_\_\_\_

1.4. Иқтисодиётда таркибий ўзгаришлар: \_\_\_\_\_

1.5. Бюджет тақчиллиги: \_\_\_\_\_

2) Тўғри ёки нотўғри:

2.1. Глобаллашув жараёнлари ривожланишнинг объектив жараёни бўлиб, унда барча давлатлар қандайдир даражада иштирок этмоқда: \_\_\_\_\_

2.2. Ўзбекистон Шанхай ҳамкорлик ташкилотига 2001 йил 15 июнда ташкилот асосчиларидан бири сифатида қўшилди: \_\_\_\_\_

2.3. Ўзбекистоннинг МДХ доирасида эркин савдо ҳудуди тўғрисидаги келишувга қўшилиши ҳақидаги баённома 2013 йил 31 майда имзоланган: \_\_\_\_\_

2.4. Ўзбекистоннинг ташқи савдосида Ўрта Осиё давлатларининг улуши бошқа ҳамкор давлатлар улушидан кўпроқ. \_\_\_\_\_

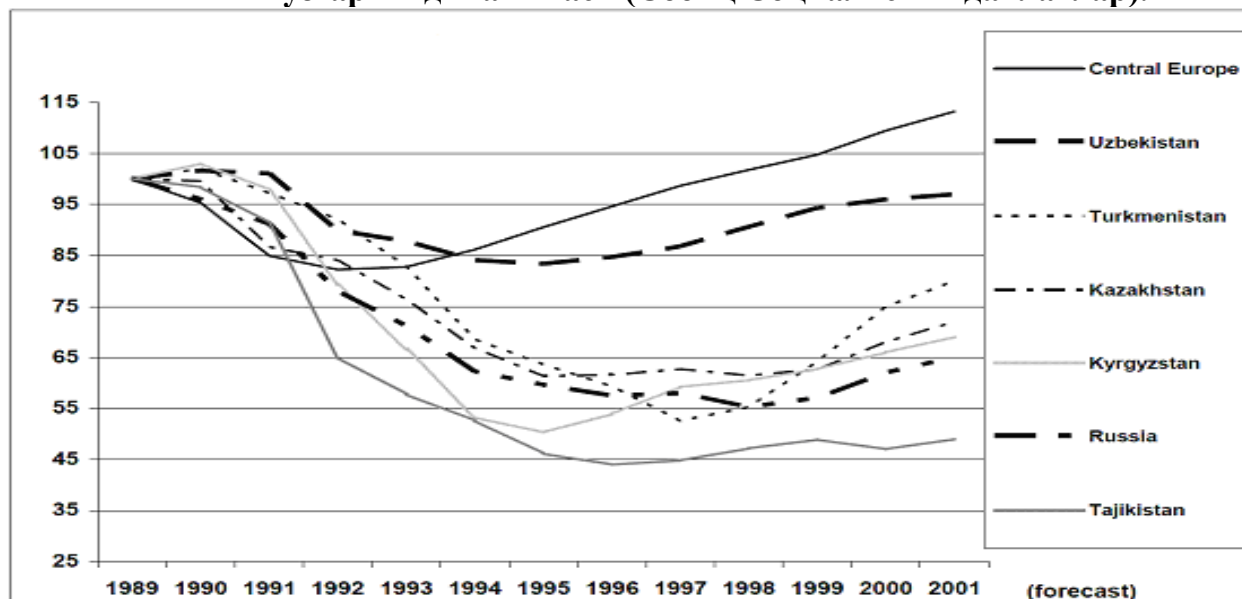
2.5. Ўзбекистоннинг экспорти таркибида қишлоқ хўжалик маҳсулотларининг улуши саноат маҳсулотлари улушидан катта: \_\_\_\_\_

3) Машқлар

Қуйида график ва жадвалларда Ўзбекистон иқтисодиётига оид келтирилган маълумотларни таҳлил қилинг ва изоҳланг. Асосий эътиборни иқтисодиёт таркибидаги ўзгаришлар ва макроиқтисодий барқарорлик муаммоларига қаратинг.

1 график

ЯИМ ўзгариш динамикаси (Собиқ Социалистик давлатлар).



Манба: R.Bendini. Uzbekistan: selected trade and economic issues. Policy briefing. EU parliament directorate of external policy. September 2013. DG EXPO/B/PolDep/Note/2013\_246. Page 6. Figure 1.

1. жадвал

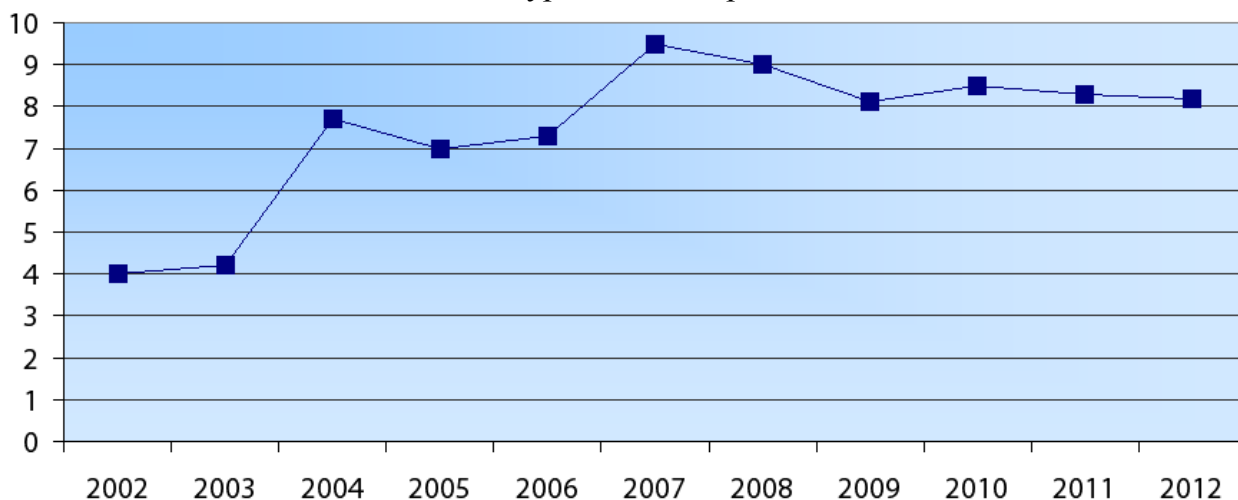
**Ўзбекистон иқтисодиётида соҳалар кесимида иқтисодиёт таркибидаги ўзгаришлар**

Соҳалар	1990	2001	2011
Саноат	33	23	33
Қишлоқ хўжалиги	22	34	19
Хизматлар	34	43	48

Манба:R.Bendini. Uzbekistan: selected trade and economic issues. Policy Briefing. EU Parliament directorate of external policy. September 2013. DG EXPO/B/PolDep/Note/2013\_246. Page 12. Table 1.

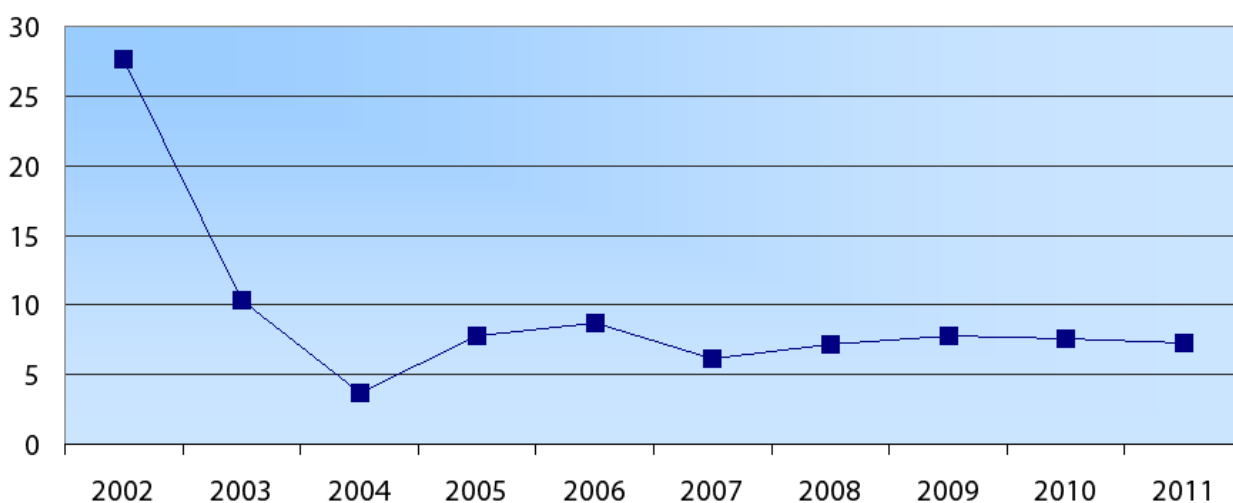
2график

**Ўзбекистонда ЯИМ суръатини охириги 10 йиллик динамикаси**



3график

**Ўзбекистонда инфляция суръатини охириги 10 йиллик динамикаси**



Манба: R.Bendini. Uzbekistan: selected trade and economic issues. Policy Briefing. EU Parliament directorate of external policy. September 2013. DG EXPO/B/PolDep/Note/2013\_246. Page 9–10. Figure 3 and 5.

4) **Топшириқ:** қуйидаги жадвалда Ўзбекистон халқаро ва интеграцион ташкилотларга аъзо бўлган тарихий саналар берилган ушбу саналарга мос ташкилотлар номини ёзинг.

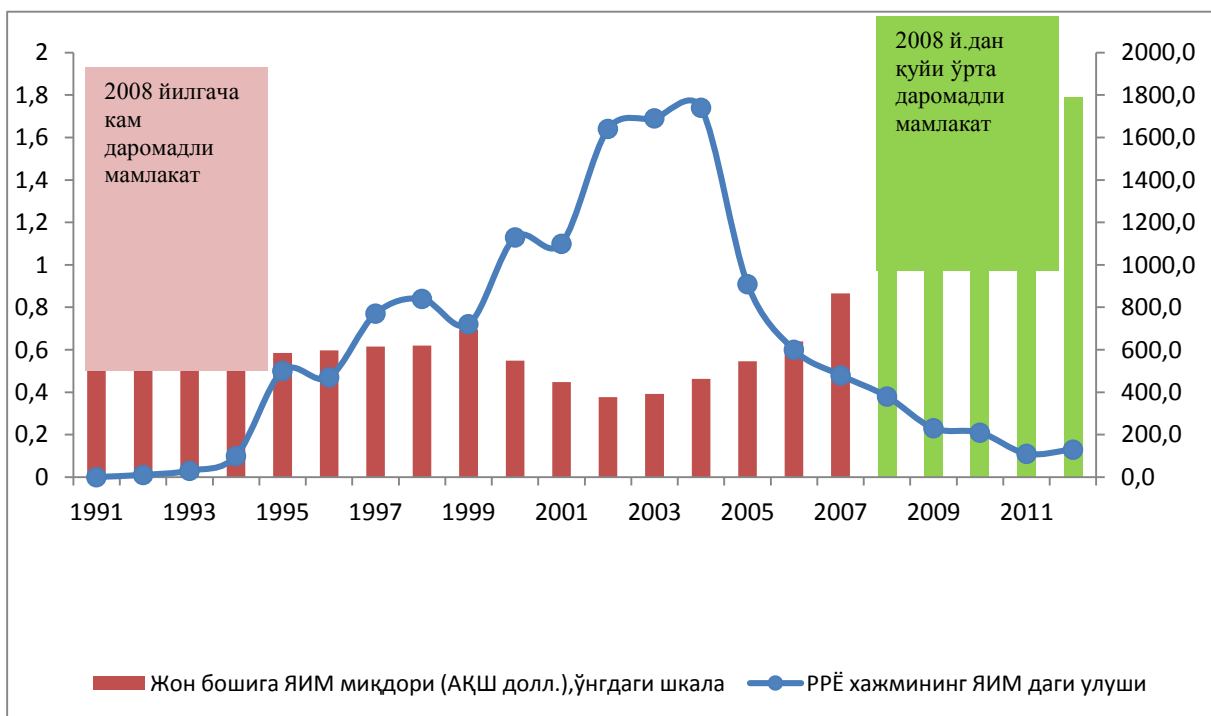
№ **Сана Ташкилот ёки интеграция номи:**

- 1 2001 йил 15 июнь: \_\_\_\_\_
- 2 1991 йил 8 декабрь: \_\_\_\_\_
- 3 1992 йил 2 июль: \_\_\_\_\_
- 4 2001 йил 2 октябрь: \_\_\_\_\_
- 5 1995 йил 1 август: \_\_\_\_\_
- 6 1992 йил 26 февраль: \_\_\_\_\_
- 7 1992 йил 2 март: \_\_\_\_\_
- 8 1993 йил 26 октябрь: \_\_\_\_\_

5) **Мушоҳада қилиш учун саволлар:**

- 5.1. Глобаллашув жараёнлари дунё мамлакатлари ўртасида ҳамда мамлакат ичида иқтисодий нотенгликни чуқурлашувига олиб келмоқда деган фикрни маъқуллайсизми? Фикрингизни статистик маълумотлар билан асосланг.
- 5.2. Европа Иттифоқи ва Россиянинг бир-бирига қарши қўллаган санкциялари Ўрта Осиё давлатлари иқтисодиётига таъсир кўрсатдимми?
- 5.3. БМТ нинг Мингйиллик ривожланиш мақсадлари қандай вазифаларни қамраб олади ва уларни амалга оширишдан кўзланган мақсад нима?
- 5.4. Ўзбекистон мамлакат хусусиятларидан келиб чиқиб қандай Мингйиллик ривожланиш мақсадларини қўйди ва бу мақсадларга қай даражада эришди? Статистик маълумотлар билан фикрингизни асосланг.

б) **Статистик маълумотлар билан ишлаш учун масала.** Қуйидаги диаграммада келтирилган маълумотларга асосланиб ўтган йилларда иқтисодиётда қандай ўсиш ваўзгаришлар бўлганини тавсифланг.



7) **Дастурий таъминот:** махсус дастурга киритилган тестларни ечинг.

## **Фойдаланилган адабиётлар рўйхати** **Асосий адабиётлар**

1. Колесов В.П., Кулаков М.В. Международная экономика: Учебник. - М.: ИНФРА-М, 2008. - 474 стр.
2. Ломакин В.К. Мировая экономика: учебник для студентов вузов, обучающихся по экономическим специальностям и направлениям / В.К. Ломакин. – 3-е изд., перераб. и доп. – М.: ЮНИТИ-ДАНА, 2007. – 671 стр.
3. Устойчивое экономическое развитие в условиях глобализации и экономики знаний: концептуальные основы теории и практики управления / Под ред. В.В. Попкова. Учебник. М.: ЗАО «Издательство «Экономика», 2007. — 295 стр.
4. Богомолов О.Т. Мировая экономика в век глобализации: Учебник. — М.: ЗАО «Экономика», 2007. — 359 стр.
5. Практикум по экономикс.
6. Колтынюк Б.А. Инвестиции. Учебник. - СПб.: Изд-во Михайлова В.А. 2003. - 848 с.
7. Международные экономические отношения. Учебная программа и методические рекомендации по изучению дисциплины. МГИМО 2007. Любецкий ВВ, Новиков АА.

## **Қўшимча адабиётлар**

1. Мировая экономика: прогноз до 2020 года / под ред. акад. А.А. Дынкина / Учебник ИМЭМО РАН. – М.: Магистр, 2007. – 429 стр.
2. Международные валютно-кредитные и финансовые отношения: учебник /Под ред. Л.Н. Красавиной. - 3-е изд., перераб. и доп. -М.: Финансы и статистика, 2007. - 576 стр.
3. R.Bendini. Uzbekistan: selected trade and economic issues. Policy Briefing. EU Parliament directorate of external policy. September 2013. DG EXPO/B/PolDep/Note/2013\_246.
4. Кругман. П и Обстьфелд. М. Международная экономика. С.Пб.2003г.
5. Международная торговля и мировое хозяйство: состояние и перспективы развития. Методические указания. С.П.Лапаев. Оренбургский государственный университет. Оренбург 2009.
6. Международная трудовая миграция в условиях глобализации и нелегальная миграция в России. С.Е.Метелов. Монография. М.2006.
7. Экономика транснационального предприятия. С.В Шагурин, П.Д.Шимко. СПб. 2008. Политехнический университет.
8. Валютный рынок и валютные операции. Н.Г.Щеголева. М.2005. Московская финансово промышленная академия.
9. UNCTAD. World investment report 2014.
10. Uzbekistan. External debt statistics. 2014. World Bank.
11. С.В.Приходько, Н.П.Волковик. Особые экономические зоны. Консорциум по вопросам прикладных экономических исследований. Москва. ИИЭП. 2007.

## **Интернетманбалари**

[www.worldbank.org](http://www.worldbank.org)  
[www.fdi.com](http://www.fdi.com)  
[www.imf.org](http://www.imf.org)  
[www.nber.org](http://www.nber.org)  
[www.ereport.ru/stat](http://www.ereport.ru/stat)  
[www.ifc.com](http://www.ifc.com)  
[www.gdnet.org](http://www.gdnet.org)  
[www.blds.com](http://www.blds.com)

[www.ziyonet.uz](http://www.ziyonet.uz).  
[www.lex.uz](http://www.lex.uz).  
[www.arxiv.uz](http://www.arxiv.uz)  
[www.stat.uz](http://www.stat.uz)  
[www.statistics.uz](http://www.statistics.uz)